

سایت تخصصی آموزشی

« من درس دارم »

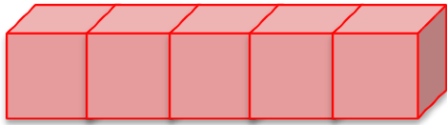
[www.mandarsdaram.com](http://www.mandarsdaram.com)

بنام خدا

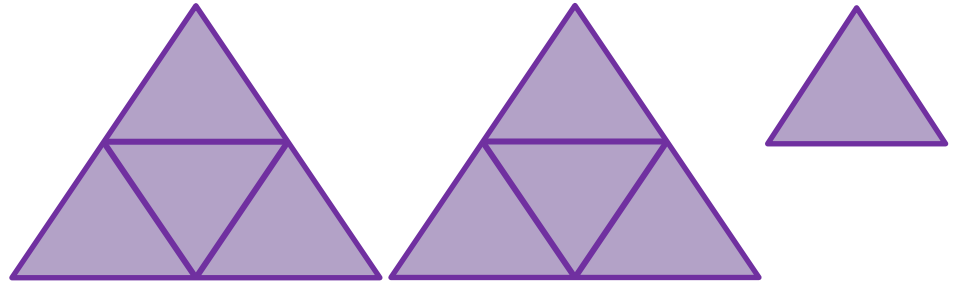
نمونه سوالات فصل اول پایه ی دوم

مدرس : پگاه بزرافشان

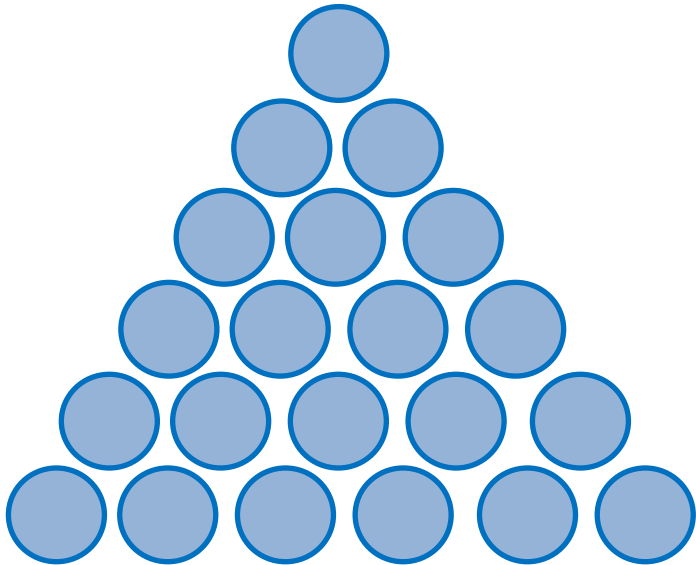
۱- هر شکل چه عددی را نشان می دهد؟



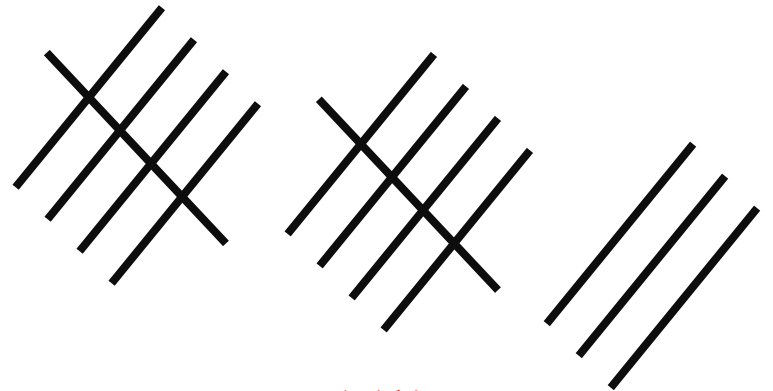
۵



۹



۲۱



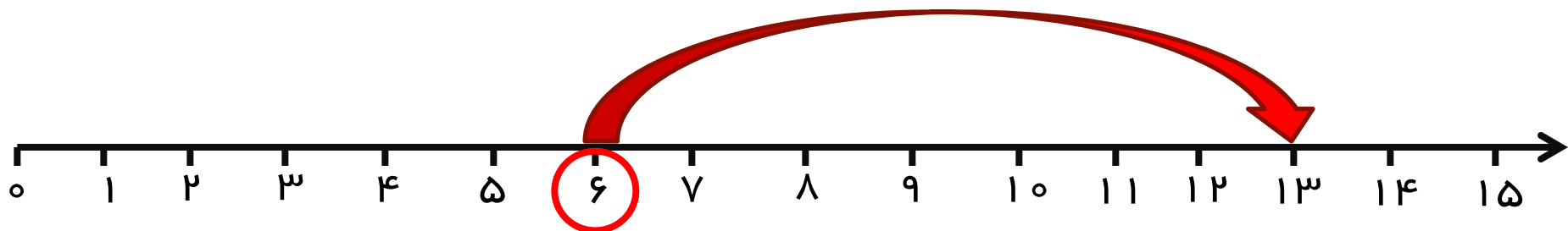
۱۳

۲- نوشتن عددها را طبق الگو ادامه دهید .

$+7$   $+7$   $+7$   
۱۱ ، ۱۸ ، ۲۵ ، ۳۲ ، ۳۹ ، ۴۶

$-3$   $-3$   $-3$   
۶۳ ، ۶۶ ، ۶۹ ، ۷۲ ، ۷۵ ، ۷۸

۳- امروز ۶ خرداد ماه است . یک هفته بعد چه روزی از  
ماه است ؟ ( روی محور نمایش بده )



۱۳ خرداد است .

۴- عدد های دو رقمی زیر را به عدد و حروف بنویسید .

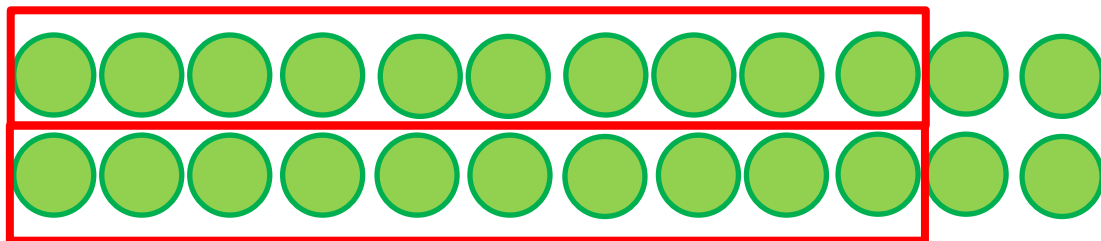
الف) رقم یکان ۴ ، رقم دهگان ۳ :

رقم : ۳۴ : حروف : سی و چهار

ب) رقم یکان ۰ ، رقم دهگان ۸ :

رقم : ۸۰ : حروف : هشتاد

۵- برای شکل های زیر دسته های ده تایی جدا کنید و جدول را کامل کنید .




ده تایی	یکی
۲	۲



ده تایی	یکی
۳	۰

۶- بهراد ۱۳ شاخه گل دارد . ۷ تا از گل ها سرخ و بقیه  
زرد هستند . بهراد چند گل زرد دارد ؟ ( با کمک شکل به  
سوال جواب دهید )



۶ شاخه گل زرد است .

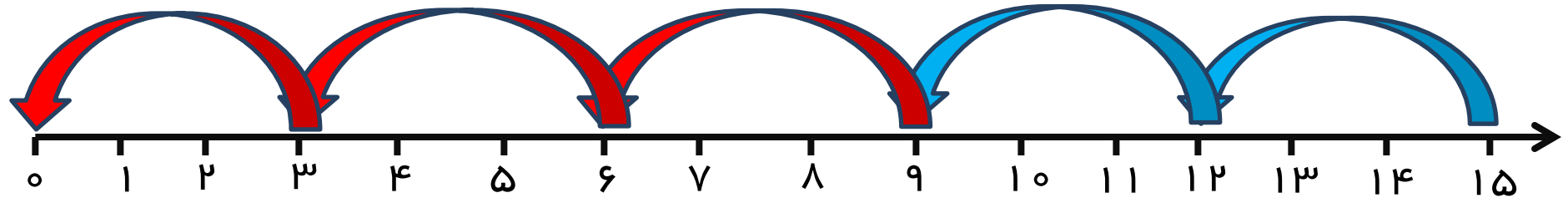


۷- بزرگترین و کوچکترین عدد دو رقمی که میتوان با رقم های ۳ و ۶ نوشت ، (بدون تکرار رقم ها) را بنویسید .

بزرگترین : **۶۳**...

کوچکترین : **۳۶**...

۸- محور زیر را مانند یک الگو ادامه دهید .




۹- عدد دو رقمی بنویسید که رقم دهگان آن ۹ و یکانش ۳  
واحد از دهگانش کمتر باشد .

ده تایی	یکی
۹	۶

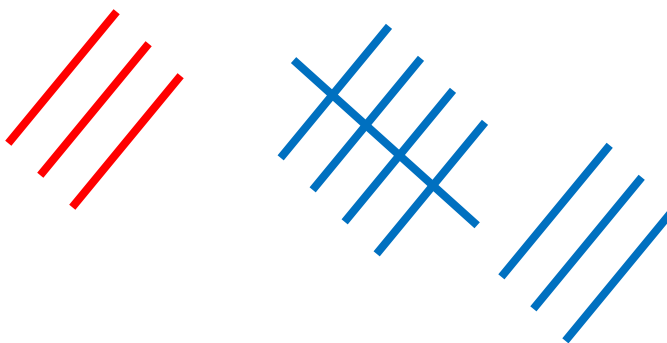


۱۰- با رسم چوب خط حاصل جمع های زیر را حساب کنید .

$$9 + 6 = 15$$



$$3 + 8 = 11$$



۱۱- با رقم های ۱ و ۹ چند عدد دو رقمی میتوانید بنویسید؟  
آن ها را به رقم و حروف بنویسید .

۹۱ نود و یک

۱۹ نوزده

۱۱ یازده

۹۹ نود و نه

۱۲- جمع های زیر را کامل کنید .

$$\dots + \overset{9}{\dots} = 9$$

$$\overset{3}{\dots} + \overset{6}{\dots} = 9$$

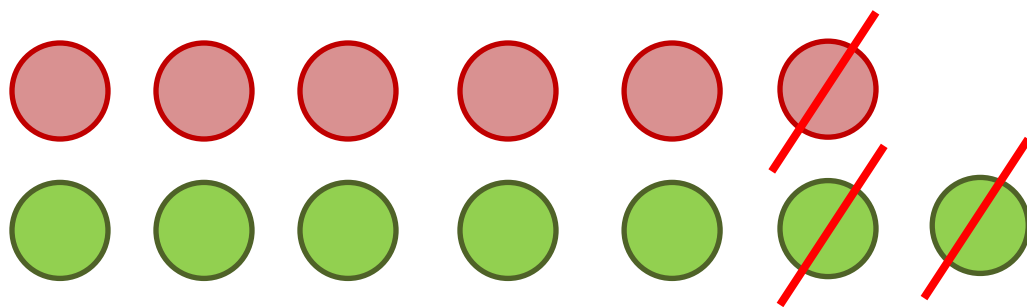
$$\dots + \overset{8}{\dots} = 9$$

$$\overset{4}{\dots} + \overset{5}{\dots} = 9$$

$$\overset{2}{\dots} + \overset{7}{\dots} = 9$$

$$\overset{5}{\dots} + \overset{4}{\dots} = 9$$

۱۳- بهراد ۶ توپ داشت . پدرش هم ۷ توپ دیگر به او هدیه داد . اما بهراد ۳ تا از توپ هایش را به خواهرش داد . حالا بهراد چند توپ دارد ؟ ( برای پاسخ از رسم شکل کمک بگیرید . )



بهراد ۱۰ توپ دارد .

۱۴- ۲ بسته ی ده تایی چوب خط داشتیم . ۵ بسته ی ده تایی  
و ۳ یکی به آن اضاف کردیم . حالا چند چوب خط داریم ؟

۷۳ چوب خط داریم .

ده تایی	یکی
۷	۳



صورت قشنگت با لبخند

دیدنی تر همیشه

