


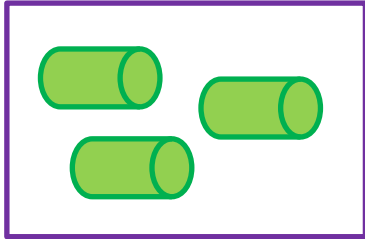









نمونه سؤالات فصل دهم ریاضی - اول دبستان

معلم : پگاه برزافشان


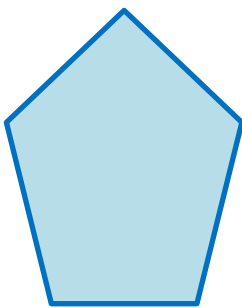
۱ - دلبندهم شکل های هر دو دسته روی هم چند تا می شود؟ ابتدا با چوب خط و سپس با یک عدد نشان بده.

			<input data-bbox="1070 1039 1268 1163" type="text"/>	<input data-bbox="1292 1039 1406 1163" type="text"/>
			<input data-bbox="1070 1314 1268 1438" type="text"/>	<input data-bbox="1292 1314 1406 1438" type="text"/>
			<input data-bbox="1070 1589 1268 1713" type="text"/>	<input data-bbox="1292 1589 1406 1713" type="text"/>





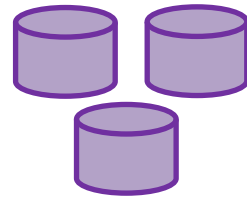
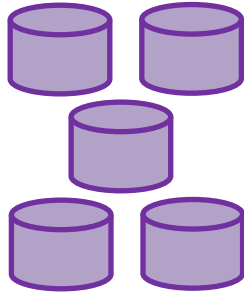
۲- طول هر شکل چند تا چینه است؟ عدد مربوط به آن را بنویس.



۳- با استفاده از خط کش، خطی بکش که شکل را به دو نیمه ی مثل هم تقسیم کند.



۴- عدد مربوط به هر دسته را بنویس و دور دسته ای که شکل های بیشتری دارد خط بکش.



۵- جاهای خالی را مانند الگو پر کن.

۱ - ۲ - ۳ - ۴ - ۵ - ۶ - ۷ - ۱ - ۲ - - - - - -

