

نمونه سؤالات فصل چهاردهم ریاضی - اول دبستان


معلم : پگاه برزافشان

۱ - عزیزم به تعداد شکل های سمت راست از انگشتانی که در عکس سمت چپ می بینی ببند. حالا عبارت تفریق را کامل کن.




-

=



-

=



-

=

۲- برای هر عدد از یک رنگ استفاده کن و با رنگ کردن جواب جمع را پیدا

کن.

--	--	--	--	--

--	--	--	--	--

$$۴ + ۳ + ۲ = \dots$$

--	--	--	--	--


--	--	--	--	--

$$۲ + ۱ + ۶ + ۱ = \dots$$

۳- دلبندم جدول شگفت انگیز زیر را کامل کن.

۲	۵	۱	۶	۳	
	۴	۶	۲	۵	۱
۱	۲	۵		۶	۳
۴	۶		۵	۱	۲
۵		۴	۳	۲	۶
۶	۳		۱	۴	۵


۴- به کمک شکل ها حاصل تفریق ها را پیدا کن.



$$7 - 5 = \dots$$



$$5 - 4 = \dots$$

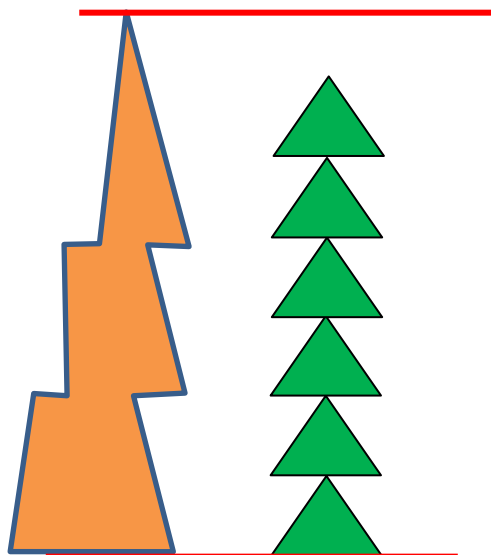


$$10 - 3 = \dots$$

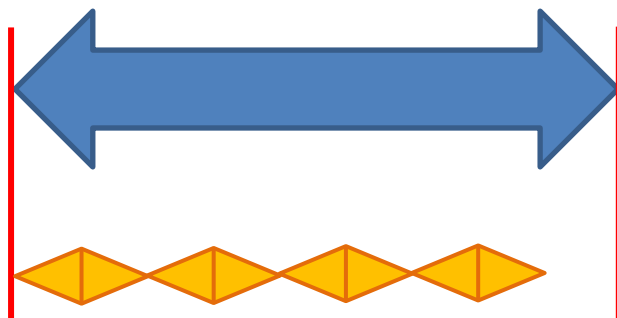


$$6 - 6 = \dots$$

۵- اندازه ی هر شکل چند شکل کوچک است؟



اندازه شکل سمت چپ کمی بلند تر از



اندازه ی فلش پیکان آبی کمی بلند تر

از

۶- گل من، به کمک شابلون نیمه ی دیگر شکل را کامل کن.

