



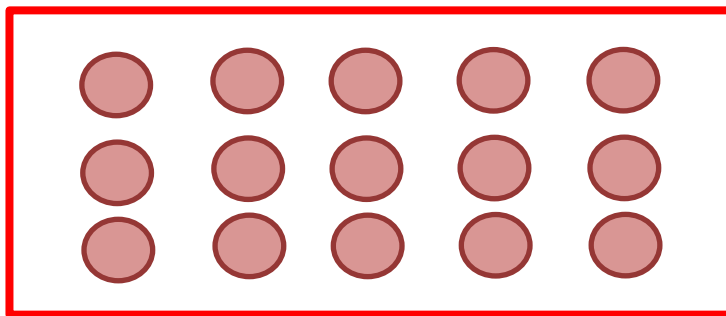
نمونه سؤالات فصل شانزدهم ریاضی – اول دبستان

معلم : پگاه برزافشان


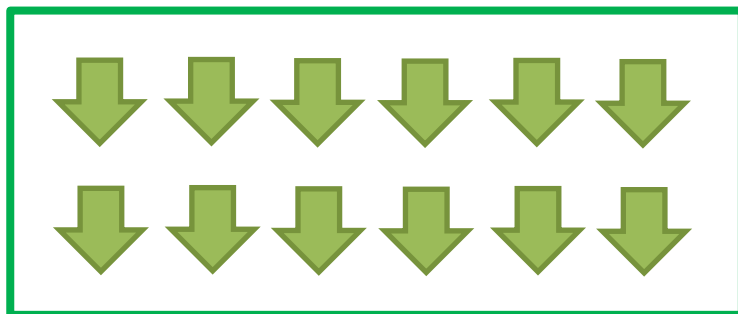
۱ – عزیزم شکل های هر دسته را با چوب خط بشمار، سپس دسته های ده تایی درست کن و جدول را کامل کن.



ده تایی	یکی
---------	-----



ده تایی	یکی
---------	-----

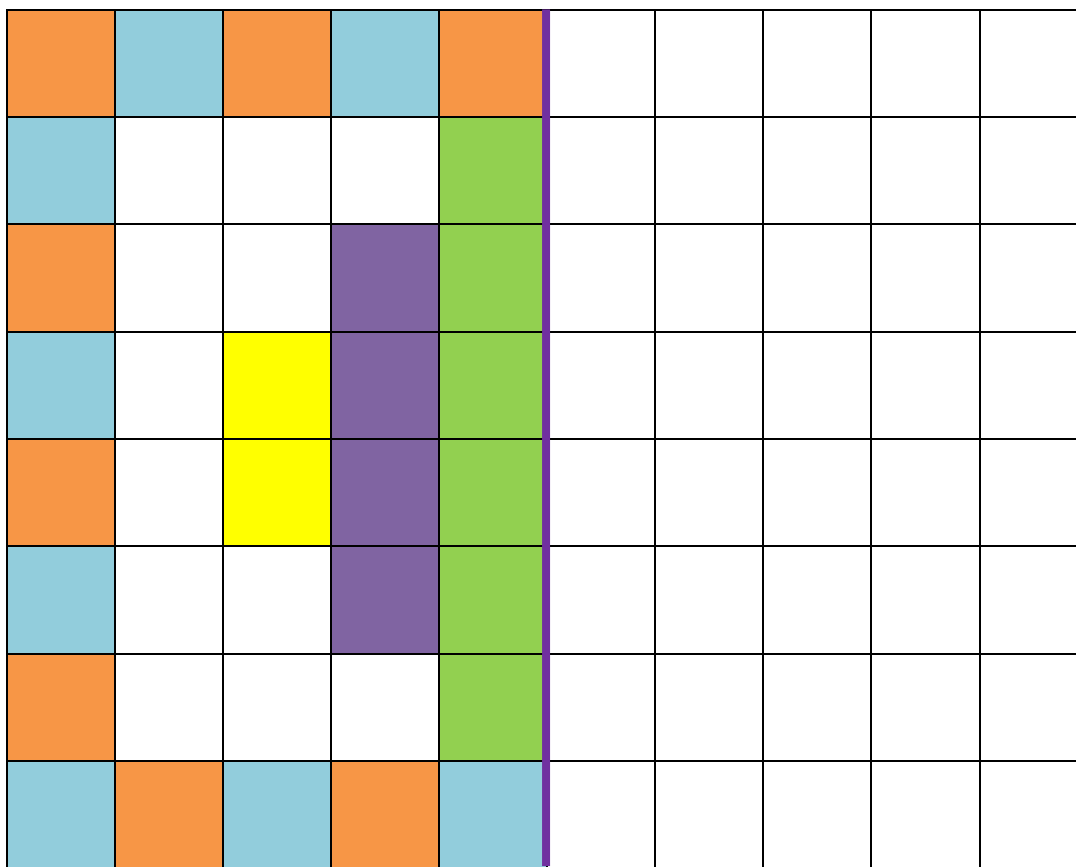


ده تایی	یکی
---------	-----



۲- گل من از ۰ تا ۱۹ را بنویس. حالا عدد های روی محور زیر را بنویس.



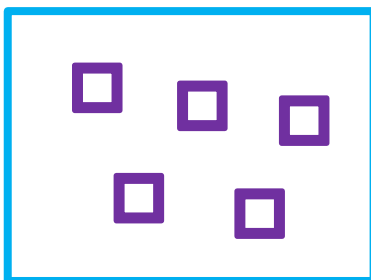
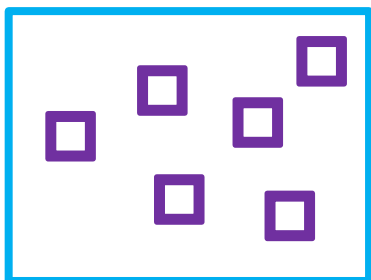
۳- نیمه ی سمت راست شکل را مانند نیمه ی سمت چپ کامل کن.





۴- حاصل جمع ها را پیدا کن و برای آن یک عبارت جمع بنویس.



..... + ..... = .....




..... + ..... = .....



..... + ..... = .....

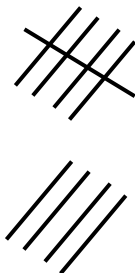
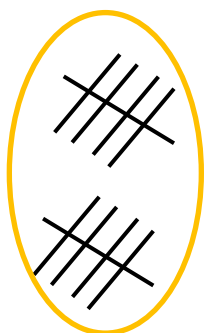
۵- گل من، هر شکل چه عددی را نشان می دهد؟ دور گزینه ی درست خط بکش.



۱۶

۱۷




۱۴



۱۸

۱۷

۱۹



۱۱


۱۶

۱۷

۶- دلبندم جدول شگفت انگیز زیر را کامل کن.

۹	۳	۷	۶	۵	۱	۸	۲	۴
۴		۵	۸		۲	۳		۱
۲	۱	۸	۴	۳	۹	۷	۶	۵
۶	۹	۴		۸		۱	۵	۲
۸		۳	۱		۴	۹		۶
۷	۲	۱		۹		۴	۳	۸
۳	۴	۶	۷	۱	۵	۲	۸	۹
۱		۲	۹		۳	۵		۷
۵	۷	۹	۲	۴	۸	۶	۱	۳

۷- اندازه ی تصویر زیر چند شکل کوچک است؟



اندازه ی این شکل از ..... کوتاه تر است.