


## نمونه سؤالات فصل نوزدهم ریاضی - اول دبستان

معلم : پگاه برزافشان

۱ - عزیزم، جدول ها را کامل کن و عددی که هر شکل نشان می دهد را

کنار آن بنویس.



ده تایی	یکی
.....	.....



ده تایی	یکی
.....	.....



۲- گل من، جواب جمع و تفریق ها را بنویس.

$$۳۰ + ۳۰ = \dots\dots$$

$$۹۰ - ۶۰ = \dots\dots$$

$$۴۰ + ۱۰ = \dots\dots$$

$$۷۰ - ۵۰ = \dots\dots$$

$$۸۰ - ۱۰ = \dots\dots$$

$$۶۰ + ۲۰ = \dots\dots$$

۳- کارها را به ترتیبی که باید انجام شود، شماره گذاری کن.



۴- یک بوته ی گل سرخ ۹ غنچه داشت. ۳ تا از غنچه ها امروز باز شدند.








این بوته چند غنچه ی دیگر دارد؟

۵- الگوها را ادامه بده.

۱۰ ، ۲۰ ، ۳۰ ، ۴۰ ، ..... ، ..... ، ..... ، ..... ، .....






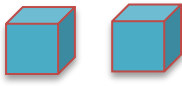
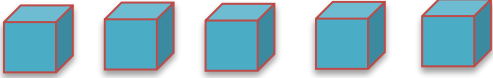
۴۰ ، ۴۵ ، ۵۰ ، ۵۵ ، ..... ، ..... ، ..... ، ..... ، .....

۶- جمع یا تفریق کن و علامت < یا > یا = را انتخاب کن.

						
--	--	--	--	---	--	--

..... + ..... = .....

..... + ..... = .....

						
---	---	---	---	--	---	--

..... - ..... = .....

..... - ..... = .....

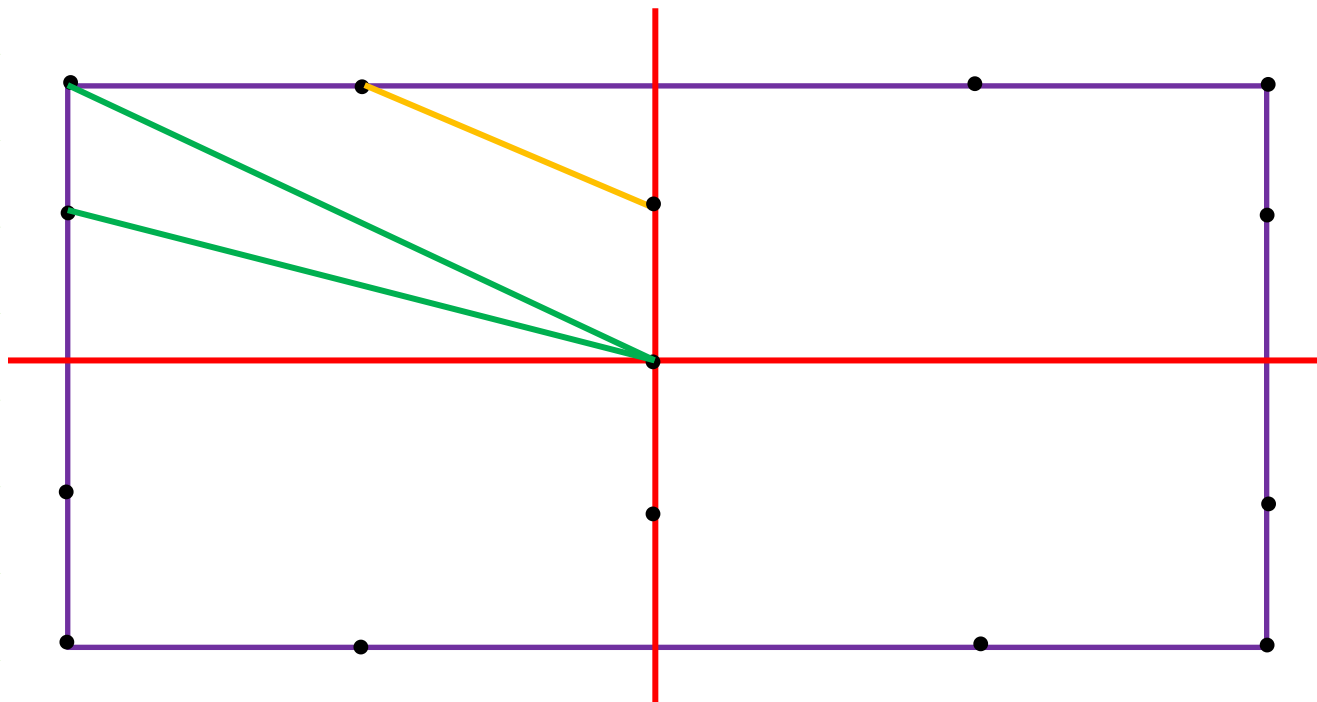
۷- پدر علی در طویله ۵ گاو و ۸ گوسفند نگهداری می کند. در این طویله

چند گاو و گوسفند وجود دارد؟

۸- دلبندم، مربع شگفت انگیز زیر را کامل کن.

۶	۱	۹	۷		۲	۳	۵	۸
	۵		۸	۳	۱	۶		۲
	۲	۳	۶	۹	۵		۷	۴
۲	۳	۶		۱	۹	۵	۸	۷
	۹	۱	۲	۷		۴		۳
۷	۸	۴	۳	۵	۶	۲	۱	۹
۹		۲	۱		۳	۷	۴	۵
	۴		۹	۶	۷		۲	۱
۱	۷	۸	۵	۲	۴	۹	۳	۶

۹- ابتدا نیمه ی سمت راست شکل را مانند نیمه ی سمت چپ کامل کن.  
 حالا نیمه ی پایینی شکل را مانند نیمه ی بالا کامل کن تا ۴ قسمت شکل  
 مثل هم شود .



۱۰- در یک حوض ۱۲ ماهی داریم. ۴ تا از ماهی ها سیاه و بقیه قرمز  
 هستند. در این حوض چند ماهی قرمز قرار دارد؟