




## نمونه سؤالات فصل بیستم ریاضی – اول دبستان

معلم : پگاه برزافشان

۱ – عزیزم، جاهای خالی را به کمک شکل ها کامل کن.



ده تایی	یکی
.....	.....



ده تایی	یکی
.....	.....

۲- گل من، جاهای خالی را با عدد مناسب کامل کن.

۱۴ ، ۲۴ ، ۳۴ ، ..... ، ..... ، ..... ، ..... ، ۸۴ ، .....

۸۱ ، ۸۲ ، ۸۳ ، ..... ، ..... ، ..... ، ..... ، .....

۲۹ ، ۳۹ ، ۴۹ ، ..... ، ..... ، ..... ، ..... ، .....

۳- در یک کلاس، سه ردیف ده تایی و یک ردیف ۸ تایی از دانش آموزان نشسته اند. این کلاس چند دانش آموز دارد؟

۴- دسته های ده تایی درست کن و جدول ها را کامل کن.



ده تایی	یکی


.....
-------



ده تایی

یکی

.....



ده تایی

یکی

.....

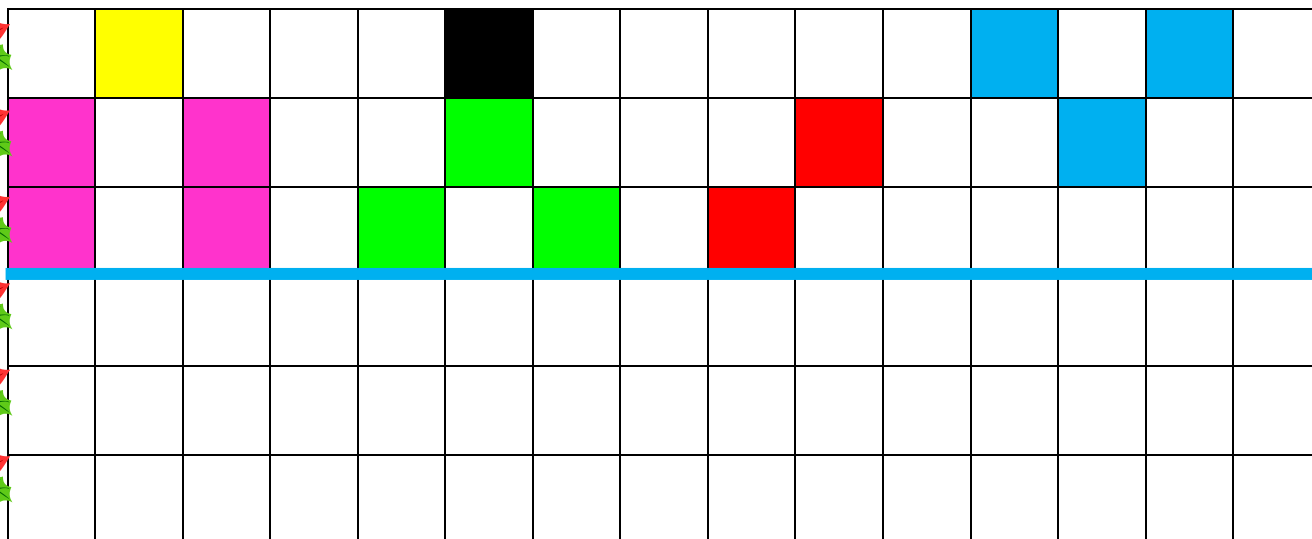
۵- عزیزم جاهای خالی را کامل کن.

..... ، ..... ، ..... ، ..... ، ۶۵ ، ۶۰ ، ۵۵ ، ۵۰

..... ، ..... ، ..... ، ..... ، ۲۵ ، ۳۰ ، ۳۵ ، ۴۰



۶- گل من الگوی زیر را طوری کامل کن که دو نیمه مثل هم باشد.



۷- بهراد ۷ دسته ی ده تایی گل دارد. او ۳ بسته از گل ها را در باغچه

کاشت. چند شاخه گل دیگر برای او مانده است؟

۸- حاصل جمع و تفریق ها را به صورت ذهنی پاسخ بده.

$$10 + 10 + 10 + 10 + 10 = \dots\dots$$

$$10 + 10 + 5 + 5 + 5 + 5 + 5 + 5 + 5 = \dots\dots$$

$$10 + 30 + 10 + 10 - 20 = \dots\dots$$

۹- عزیزم ترتیب انجام مراحل وضو گرفتن را با اعداد ۱ تا ۴ مشخص کن.



۱۰- نقطه ها را با خط کش به هم وصل کن تا ۴ قسمت مثل هم ساخته

شود.

