

۳- عزیزم، با توجه به چوب خط ها جمع بنویس و حاصل را پیدا کن.



$$\dots + \dots + \dots = \dots$$



$$\dots + \dots + \dots + \dots = \dots$$

۴- عدد هایی که با حروف نوشته شده است را به عدد بنویس.

چهار هفت نه

ده پنج هشت

۵- عزیزم با رسم چوب خط مسئله را حل کن.

زهرا برای روز معلم ۳ شاخه گل مریم، ۵ شاخه گل نرگس و ۶ شاخه گل رز

خرید. او چند شاخه گل برای معلمش خریده است؟

..... شاخه گل خریده است.

۶- به کمک جدول زیر الگو را ۴ تا ۴ تا ادامه بده و خانه ها را رنگ کن.

۱	۲	۳	۴	۵	۶	۷	۸	۹	۱۰
۱۱	۱۲	۱۳	۱۴	۱۵	۱۶	۱۷	۱۸	۱۹	۲۰
۲۱	۲۲	۲۳	۲۴	۲۵	۲۶	۲۷	۲۸	۲۹	۳۰
۳۱	۳۲	۳۳	۳۴	۳۵	۳۶	۳۷	۳۸	۳۹	۴۰

۷- حاصل عبارت های زیر را به صورت ذهنی پیدا کن.

$$۵ + ۵ + ۵ + ۵ + ۱۰ + ۱۰ + ۱۰ = \dots\dots$$

$$۲ + ۳ + ۵ + ۲۰ + ۱۰ = \dots\dots$$

$$۱۰ + ۵ + ۵ + ۳۰ + ۲۰ + ۱۰ = \dots\dots$$

۸- گل من، جاهای خالی را با عدد مناسب کامل کن.

۳۴ ، ۳۶ ، ۳۸ ، ۴۰ ، ، ، ،

۳۵ ، ۴۰ ، ۴۵ ، ۵۰ ، ، ، ،

۲۴ ، ۳۴ ، ۴۴ ، ۵۴ ، ، ، ،

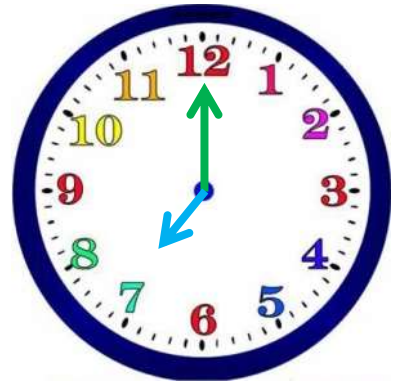
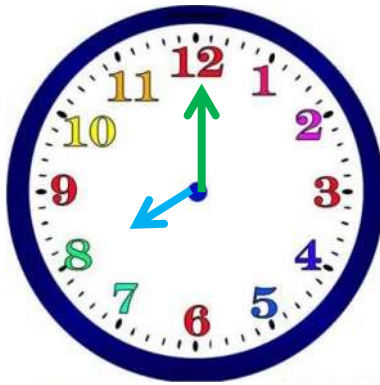
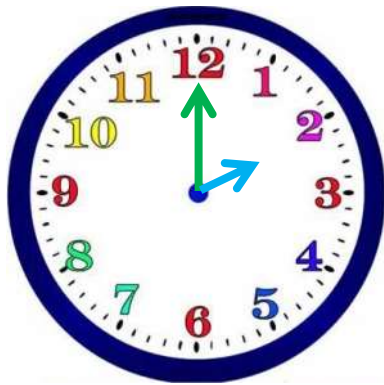
۹- اندازه ی فلش پیکان بین کدام دو عدد قرار دارد؟



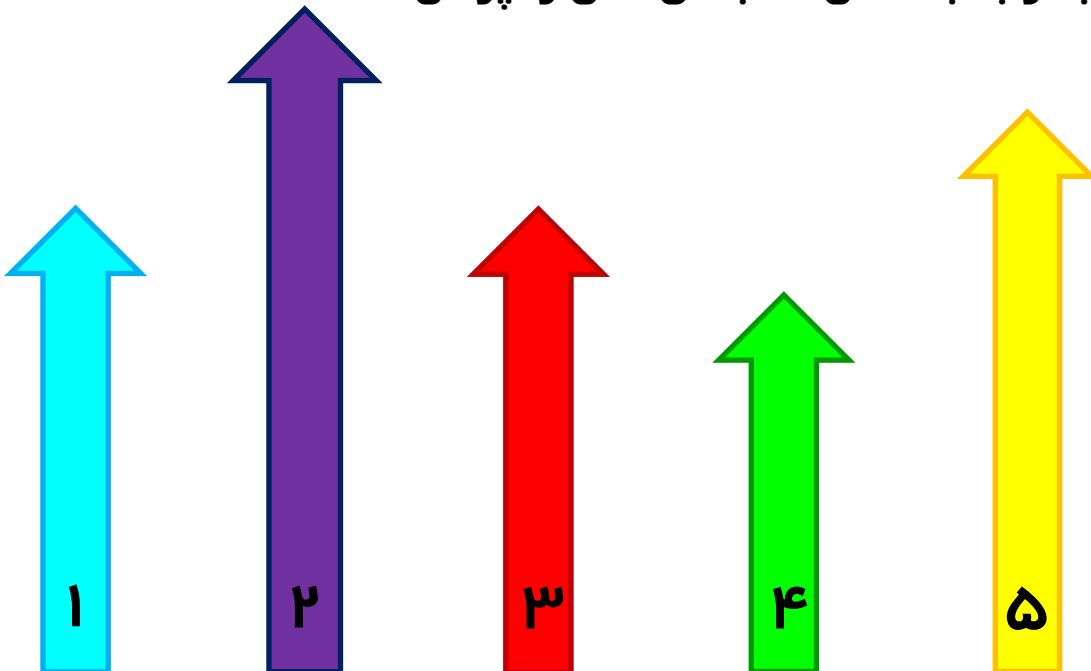
اندازه ی فلش پیکان بین تا ★ است.

اندازه ی فلش پیکان بین تا ♥ است.

۱۰ - زمانی که هر ساعت نشان می دهد را بنویس.



۱۱ - با توجه به شکل ها جاهای خالی را پر کن.



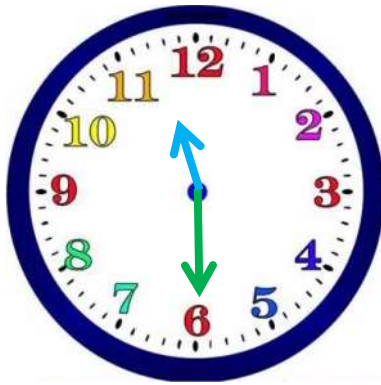
فلش شماره ی ۳ هم اندازه ی فلش شماره ی است.

فلش شماره ی ۵ کوتاه تر از فلش شماره ی است.

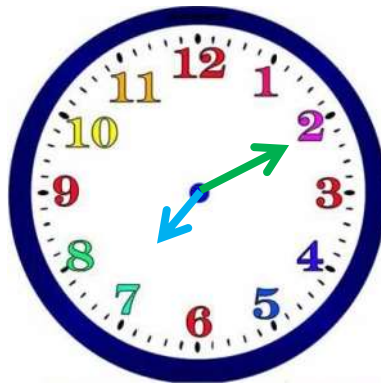
فلش شماره ی کوتاه ترین فلش است.

فلش شماره ی بلند ترین فلش است.

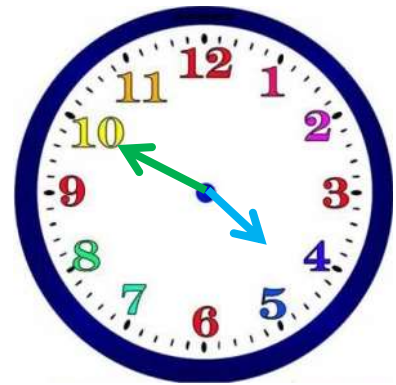
۱۲ - دلبندم جاهای خالی را پر کن.



زمان بین ساعت
..... تا است.



زمان بین ساعت
..... تا است.



زمان بین ساعت
..... تا است.

۱۳ - عزیزم در هر قسمت کدام کار بیشتر طول می کشد؟

