


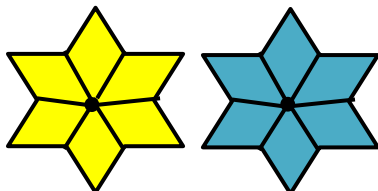
نمونه سؤالات فصل بیست و دوم ریاضی - اول دبستان

معلم : پگاه برزافشان

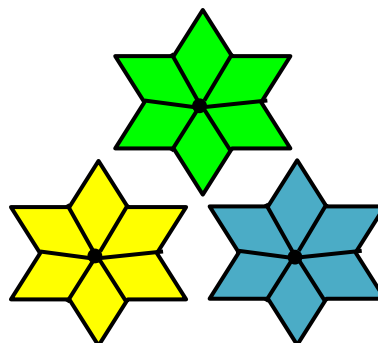
۱ - عزیزم، جاهای خالی را پر کن.



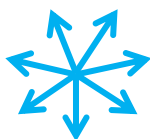
.....



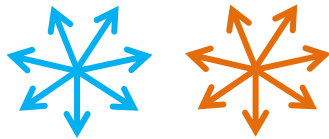
.....




.....



.....



.....



.....

۲- دلبندم الگو را ادامه بده.

۶۰ ، ۶۵ ، ۷۰ ، ۷۵ ، ، ، ،

..... ، ، ، ، ۲۵ ، ۳۰ ، ۳۵ ، ۴۰

۳- عزیزم مسئله ی زیر را به کمک محور حل کن.

یک بوته ی گل سرخ ۱۲ غنچه دارد. روز اول ۴ تا از غنچه ها شکفته شد.

روز دوم ۳ غنچه ی دیگر شکفته شد. این بوته ی گل چند غنچه ی باز نشده

دارد؟ غنچه دارد.



۴- جدول عدد ها را با شمردن ۷ تا ۷ تا رنگ کن و سپس الگوی عدد را به

کمک جدول کامل کن.

۱	۲	۳	۴	۵	۶	۷	۸	۹	۱۰
۱۱	۱۲	۱۳	۱۴	۱۵	۱۶	۱۷	۱۸	۱۹	۲۰
۲۱	۲۲	۲۳	۲۴	۲۵	۲۶	۲۷	۲۸	۲۹	۳۰
۳۱	۳۲	۳۳	۳۴	۳۵	۳۶	۳۷	۳۸	۳۹	۴۰
۴۱	۴۲	۴۳	۴۴	۴۵	۴۶	۴۷	۴۸	۴۹	۵۰

۷ ، ۱۴ ، ۲۱ ، ، ، ،

۵- جمع و تفریق های زیر را ذهنی پاسخ بده.

$$۳۵ - ۵ = \dots\dots$$

$$۳۰ - ۲۰ = \dots\dots$$

$$۷۰ - ۲۰ = \dots\dots$$

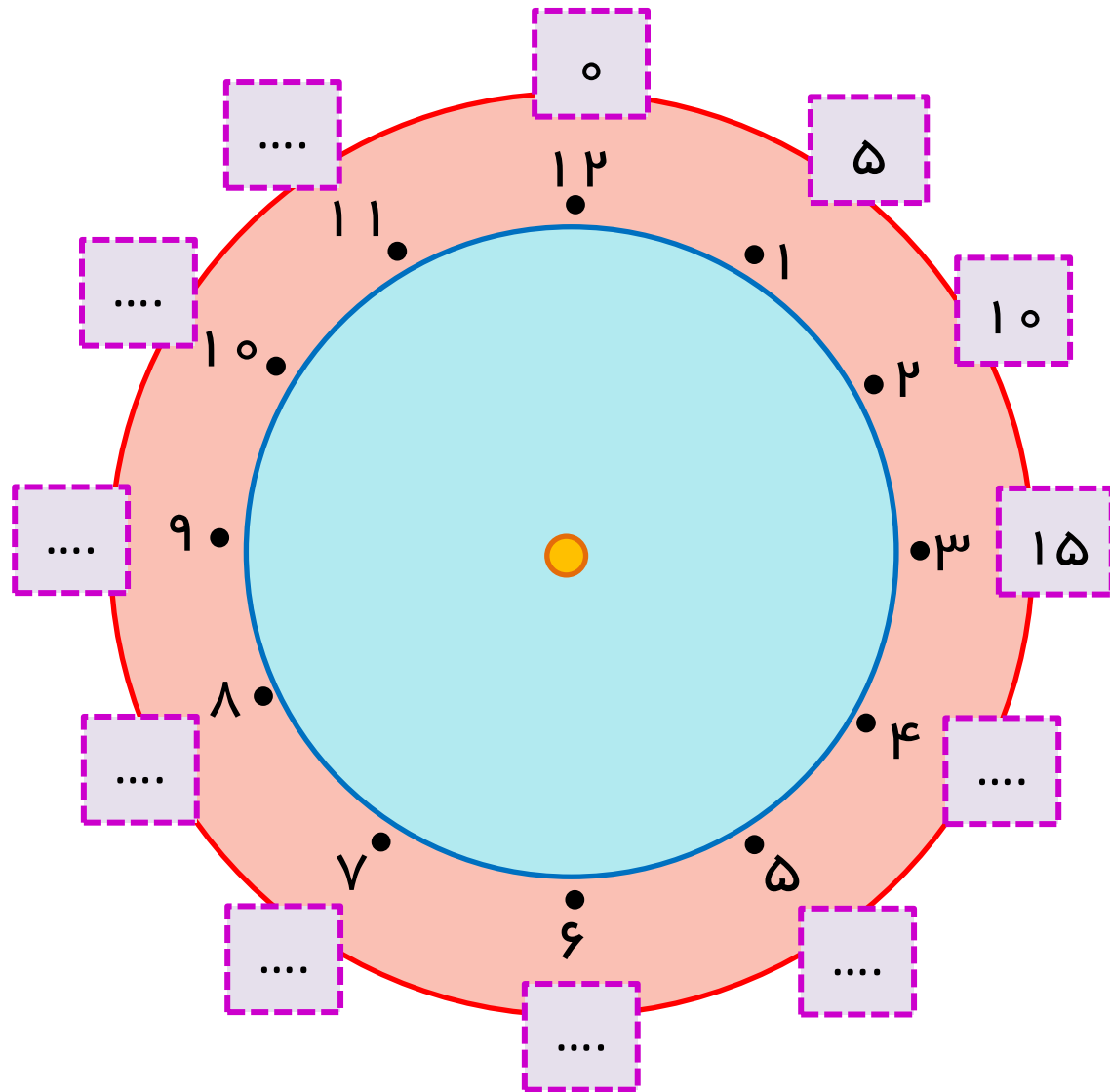
$$۱۰ + ۲۰ + ۱۰ = \dots\dots$$

۶- از ۴ شروع کن. ۴ تا ۴ تا بشمار و نقطه ها را به هم وصل کن و به ۴ برگرد.

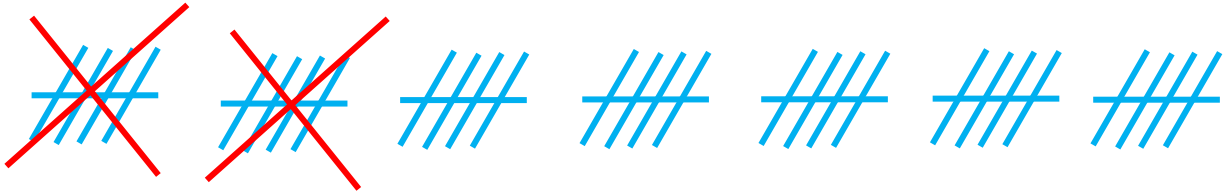
برگرد.

از ۲ شروع کن. ۴ تا ۴ تا بشمار و نقطه ها را به هم وصل کن و به ۲ برگرد.

عدد های دور ساعت را با توجه به الگویی که دارد کامل کن.



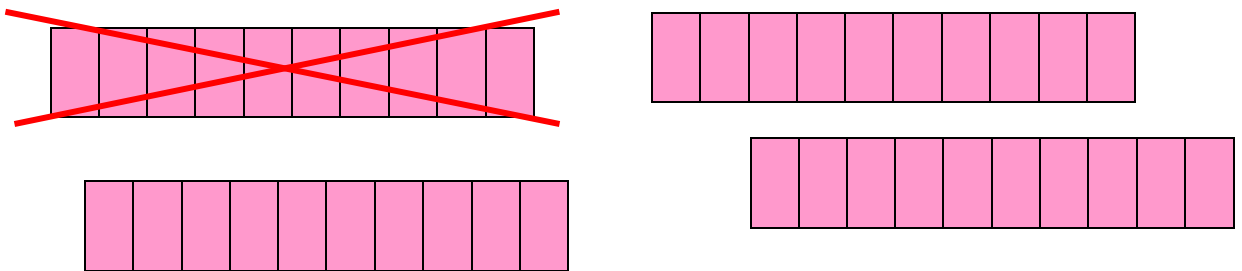
۷- برای شکل های زیر عبارت جمع یا تفریق بنویس.



$$\dots - \dots = \dots$$



$$\dots + \dots = \dots$$



$$\dots - \dots = \dots$$

۸- عدد هایی که با حروف نوشته شده است را به عدد بنویس.

نود سی نه

پنج شصت هفتاد

۹- عزیزم به کمک محور مسأله را حل کن.

نیایش ۵ دفتر نقاشی و ۸ دفتر خط دار، دارد. او ۳ تا از دفترهایش را به برادرش داد. چند دفتر برای نیایش باقی مانده است؟

..... دفتر برای نیایش مانده است.

