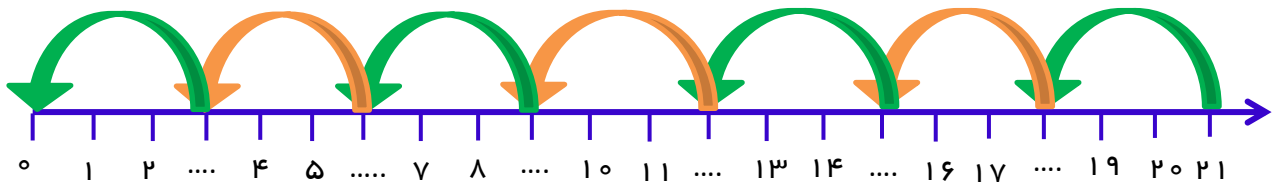
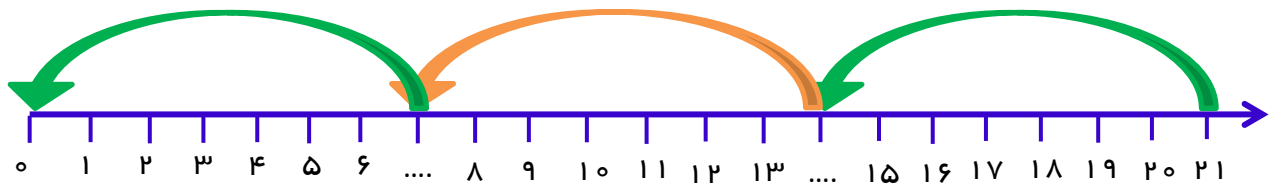


نمونه سؤالات فصل بیست و چهارم ریاضی - اول دبستان

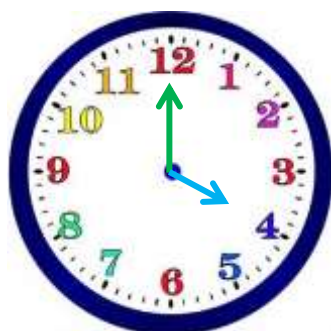
معلم : پگاه برزافشان

۱ - عزیزم، جاهای خالی را پر کن.

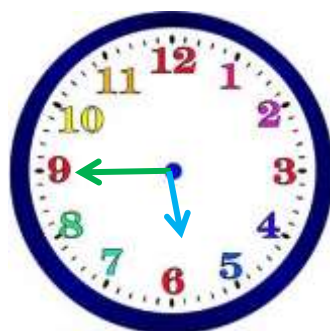


۲ - در تبلت مریم ۲۴ برنامه وجود داشت. او ۹ تا از برنامه هایی که به آن ها نیاز نداشت را حذف کرد و بعد از آن ۴ برنامه جدید نصب کرد. حالا چند برنامه در تبلت مریم وجود دارد؟

۳- عزیزم ساعت چند است؟



ساعت ..... ساعت



کمی مانده به ساعت .....



ساعت از ..... گذشته

۴- جاهای خالی را پر کن.

۷۱	۹۴		۶۸		
		چهل و دو		بیست و نه	هفتاد

۵- بستنی فروشی ۱۲ بستنی چوبی و ۷ بستنی قیفی دارد.




(۱) او روی هم چند بستنی دارد؟

(۲) اگر از هر نوع بستنی ۴ تا بفروشد، روی هم چند بستنی فروخته است؟

(۳) چند بستنی برایش مانده است؟

۶- گل من به نقاشی زیر نگاه کن و بگو از هر شکل چند بار در نقاشی

استفاده شده است؟



= ○

= △

= □

= □

۷- دلبندم نوشتن عدد ها را ادامه بده.

پنجاه و هفت - پنجاه و هشت - پنجاه و نه - .....

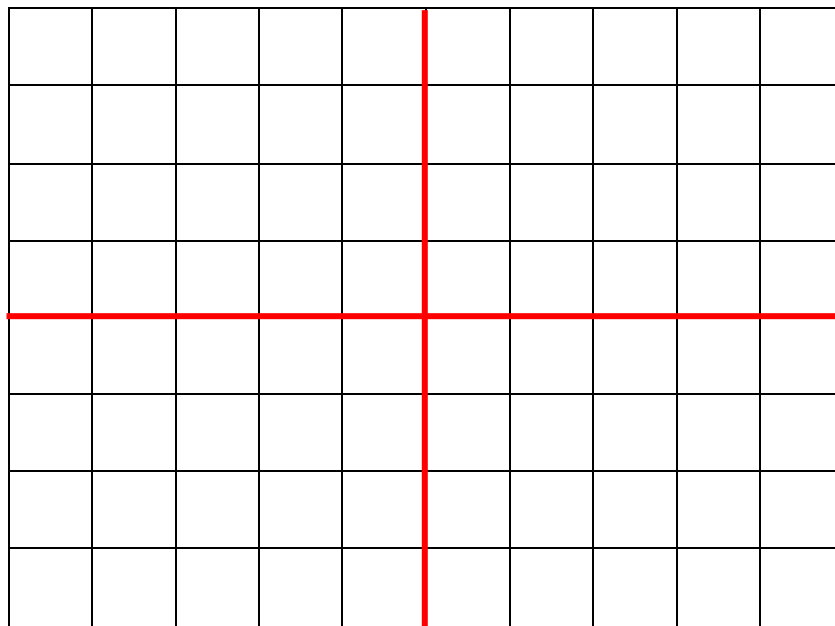
..... - ..... - .....



هفتاد و سه - هفتاد و چهار - هفتاد و پنج - .....


..... - ..... - .....

۸- فرش زیر به ۴ قسمت مساوی تقسیم شده است. ۶ تا از مربع های یک قسمت را رنگ کن. ۳ قسمت دیگر را هم مانند همان قسمت کامل کن.



۹- نانوايي امروز ۱۷ نان را از تنور بيرون آورد. اما ۹ تا از نان ها سوخته بودند. چند نان برايش مي ماند؟

۱۰- گل من، عقربه را طوري تنظيم کن که ساعت ۸ را نشان دهد.





۱۱ - گل من، در هر ردیف کدام سبک تر است؟

