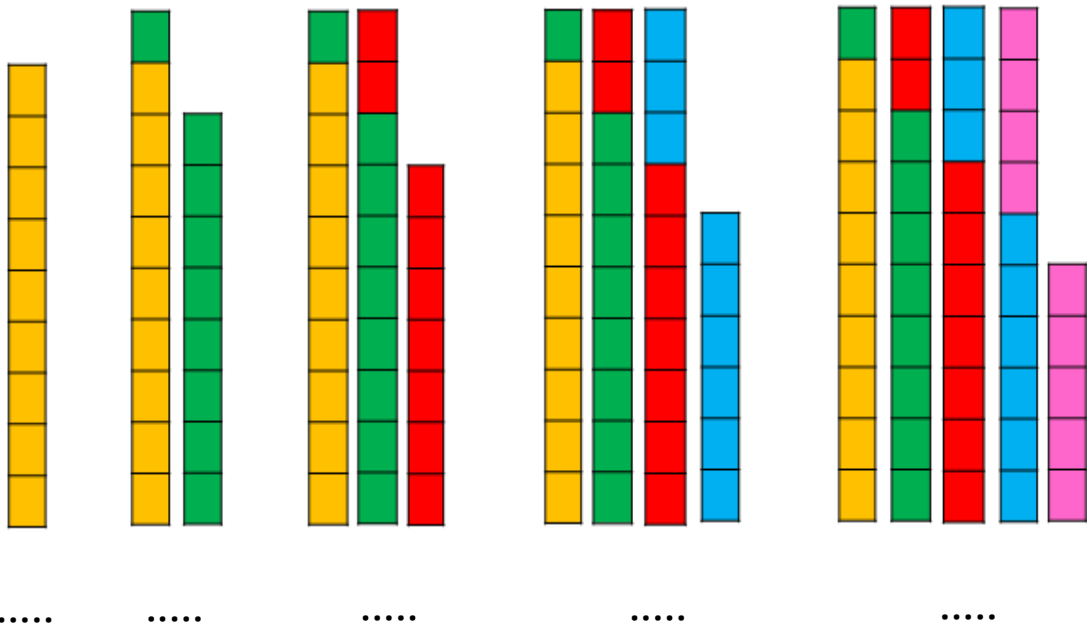


نمونه سؤالات فصل بیست و پنجم ریاضی - اول دبستان

معلم : پگاه برزافشان

۱ - عزیزم، به کمک شکل ها جاهای خالی را پر کن. سپس بنویس شکل ها چند تا چند تا اضافه شده است.



۲- علی آقا رفتگر محله، باید هر روز ۴۳ کوچه را جارو کند. او صبح تا ظهر

۱۷ کوچه و ظهر تا عصر ۲۲ کوچه را جارو زد. علی آقا تا شب چند کوچه ی

دیگر را باید جارو بزند؟

۳- در هر قسمت عددهای مناسب بنویس.

از ۹۰ تا ۱۰۰ را یکی یکی بنویس.

.....

از ۲۰ تا ۶۰ را ۵ تا ۵ بنویس.


.....

از ۵۰ تا ۱۰۰ را ۱۰ تا ۱۰ بنویس.

.....

۴- به شکل های زیر آنقدر دسته ی ده تایی اضافه کن تا شکل نشان

دهنده ی عدد ۱۰۰ باشد.



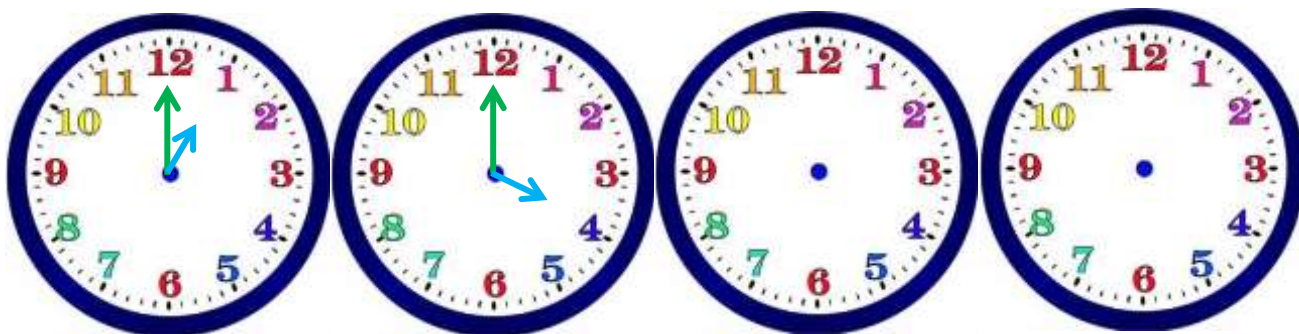
به بسته ی ۱۰ تایی یک دسته ی صدتایی می گویند.

۵- کدام کار در مدّت کمتری طول می کشد؟



۶- در یک پارک ۱۵ درخت سرو، ۲۳ درخت کاج و ۱۷ درخت چنار قرار دارد. در این پارک چند درخت است؟

۷- عقربه های ساعت ها را با توجه به الگوی آن بکش.



۸- اگر اطلاعات مسئله ها کافی است آن ها را حل کن.

۱) سوسن در یک روستای زیبا زندگی می کند. در مزرعه ی آن ها ۸ مرغ و ۱۷ جوجه وجود دارد. یکی از گاو ها، یک گوساله ی کوچک به دنیا آورد. حالا در این مزرعه چند گاو است؟

۲) در کلاس اوّل ۲۵ صندلی قرار دارد. ۱۵ دانش آموز در کلاس بودند. ۷ نفر از کلاس خارج شدند. چند صندلی در کلاس مانده است؟

۳) دو تاکسی از ابتدای مسیر شروع به حرکت کردند. در یک تاکسی ۴ مسافر و در تاکسی دیگر ۳ مسافر قرار دارد. در طول مسیر از هر تاکسی ۱ مسافر پیاده شدند. در انتهای مسیر دو تاکسی روی هم چند مسافر دارند؟

۹- دلبندم جدول زیر را کامل کن.

۴۰	۴۱	۴۲	۴۳						
		۵۲				۵۶			
				۶۴			۶۷	۶۸	

۱۰- سمت دیگر شکل را طوری کامل کن که دو نیمه ی مثل هم داشته باشیم.

