



نمونه سؤالات فصل هشتم ریاضی – اول دبستان

معلم : پگاه برزافشان


۱ – دلبندهم شکل های زیر چند گوشه دارند؟ زیر آن ها بنویس.




۲ – به شکل های زیر آنقدر اضافه کن تا عددی که زیر هر کادر نوشته شده، به دست آید.



۳

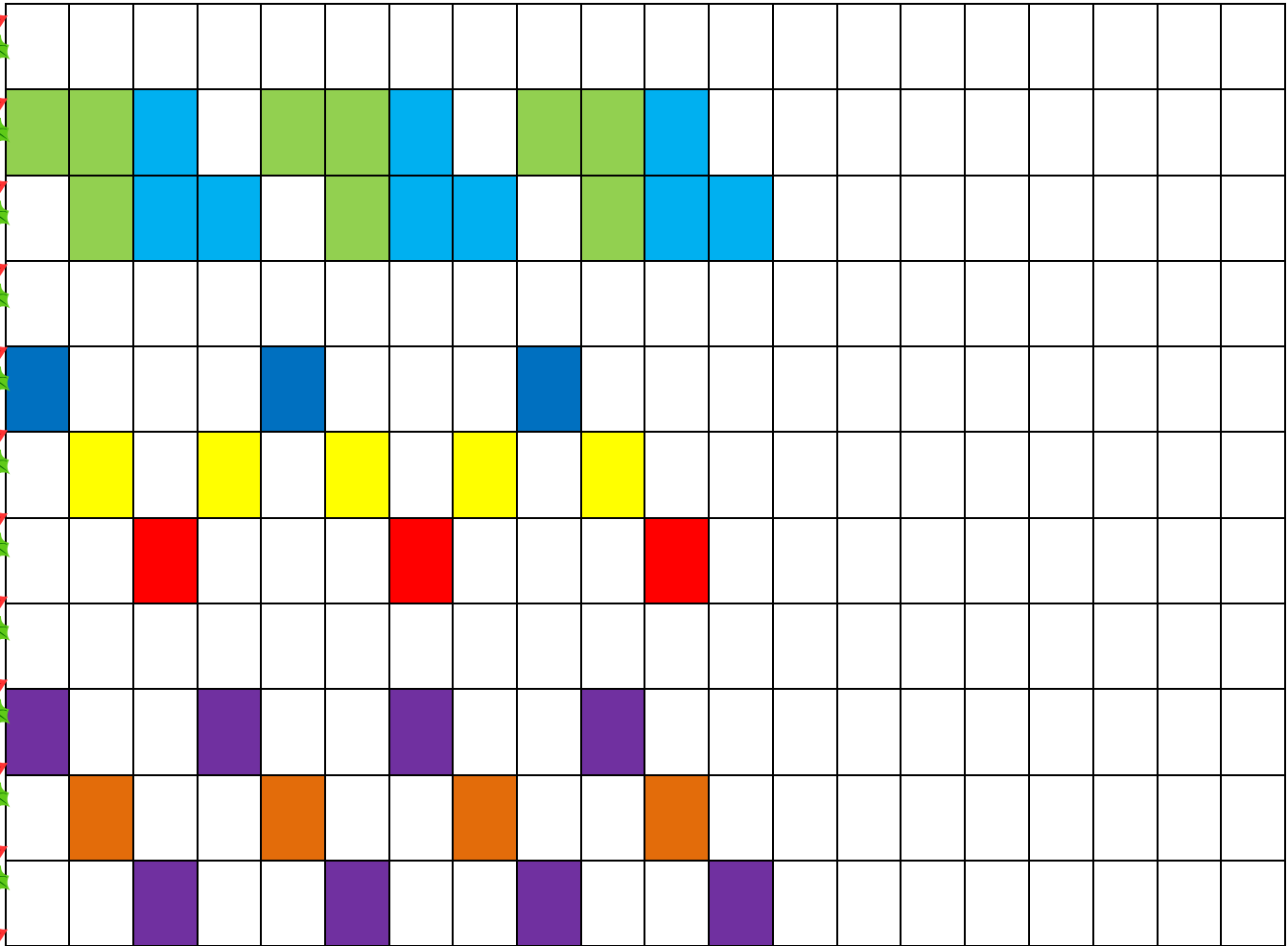


۴

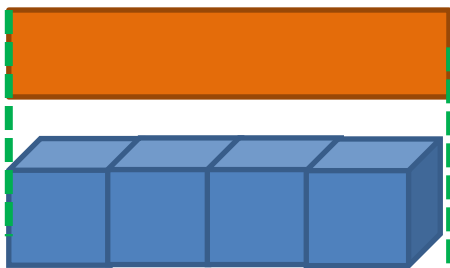


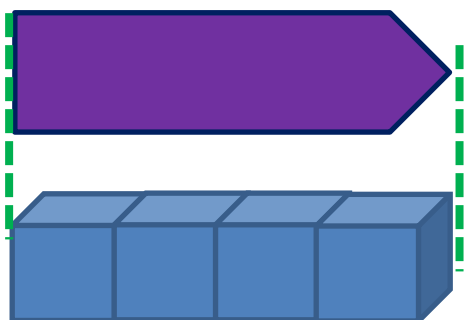

۲

۳- عزیزم الگوها را ادامه بده.



۴- اندازه ی هر شکل چند چینه است؟ کنار آن بنویس.






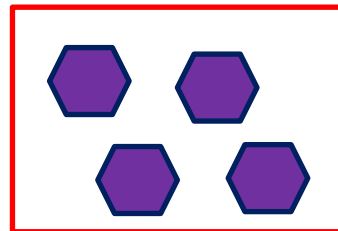
۵- گل من، مربع شگفت انگیز زیر را با عدد مناسب کامل کن.

	۲	۳	۴
۳	۴	۱	
۲		۴	۱
۴	۱		


۶- هر شکل چه عددی را نشان می دهد؟ دور آن خط بکش.




۴ ۳ ۱ ۲



۱ ۳ ۴ ۲



۴ ۳ ۲ ۱



۳ ۴ ۲ ۱

۷- عدد های مثل هم را با خط کش بهم وصل کن تا شکل مورد نظر به دست آید.

