





نمونه سؤالات فصل نهم ریاضی – اول دبستان

معلم : پگاه برزافشان

۱ – دلبندهم هر شکل با چند خط کشیده شده است؟ زیر آن ها بنویس.



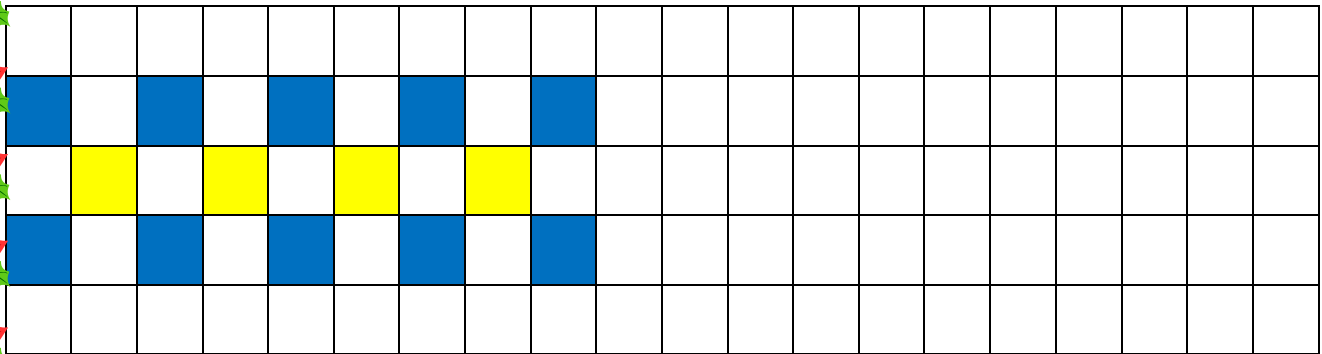
۲ – عزیزم، نوشتن اعداد را مثل الگو ادامه بده.

۱ - ۲ - ۳ - ۴ - ۵ - ۱ - ۲ - .... - .... - .... - .... - .... - .... - ....


۳ - ۴ - ۵ - ۳ - ۴ - ۵ - .... - .... - .... - .... - .... - .... - .... - ....

۰ - ۱ - ۲ - ۰ - ۱ - ۲ - .... - .... - .... - .... - .... - .... - .... - ....

۳- الگوی شطرنجی زیر را مانند نمونه کامل کن.



۴- شکل های سمت چپ و راست روی هم چند تا است؟ با یک عدد نشان بده.










۵- گل من، مربع شگفت انگیز زیر را با عدد مناسب کامل کن.

۱	۰	۳	
	۲	۱	۰
۲			۱
۰	۱	۲	۳

۶- اگر به تعداد شکل های سمت راست از شکل های سمت چپ برداریم، چند تا می ماند؟ عدد آن را بنویس.





۷- عزیزم اعداد هر شکل را بنویس.

