




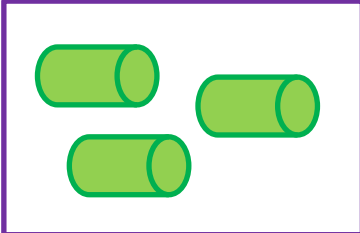











پاسخ نمونه سوالات فصل دهم ریاضی – اول دبستان


معلم : پگاه برزافشان

۱ – دلبندهم شکل های هر دو دسته روی هم چند تا می شود؟ ابتدا با چوب


خط و سپس با یک عدد نشان بده.

۲- طول هر شکل چند تا چینه است؟ عدد مربوط به آن را بنویس.




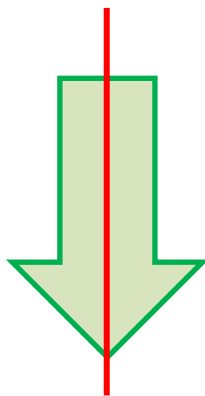
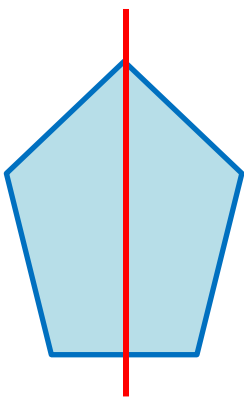
۷



۵

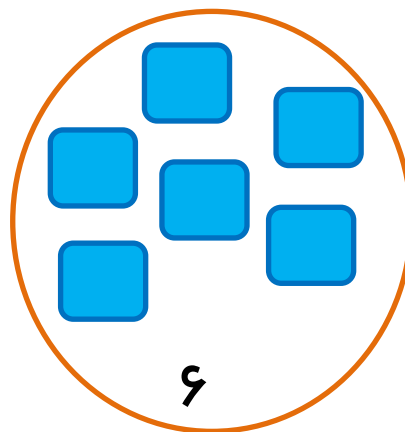
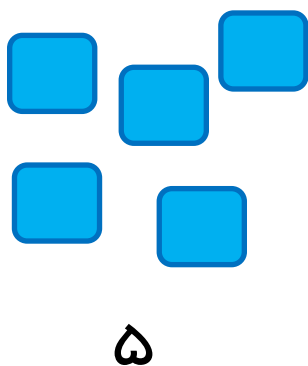

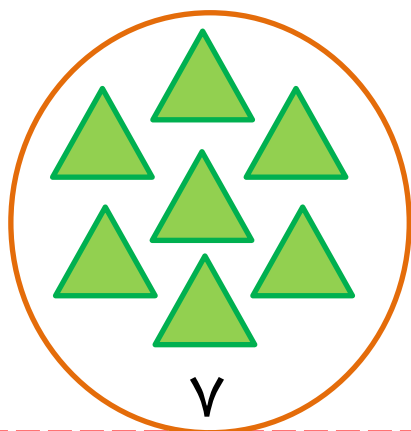
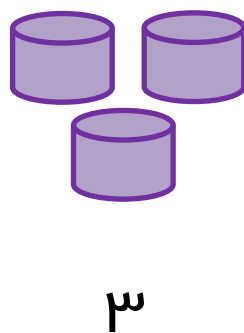
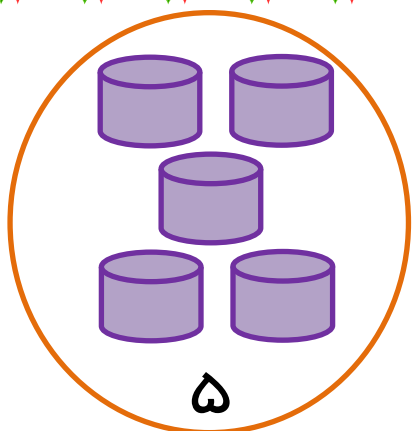
۳- با استفاده از خط کش، خطی بکش که شکل را به دو نیمه ی مثل هم

تقسیم کند.



۴- عدد مربوط به هر دسته را بنویس و دور دسته ای که شکل های

بیشتری دارد خط بکش.



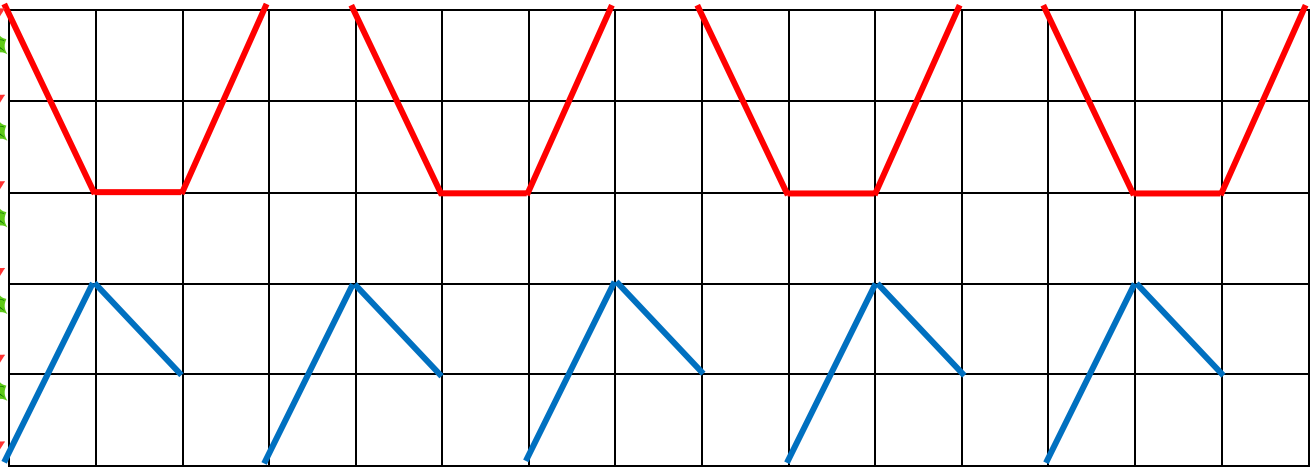
۵- جاهای خالی را مانند الگو پر کن.

۱ - ۲ - ۳ - ۴ - ۵ - ۶ - ۷ - ۱ - ۲ - ۳ - ۴ - ۵ - ۶ - ۷ - ۱

۱ - ۲ - ۳ - ۴ - ۵ - ۱ - ۲ - ۳ - ۴ - ۵ - ۱ - ۲ - ۳ - ۴ - ۵

۴ - ۵ - ۶ - ۷ - ۴ - ۵ - ۶ - ۷ - ۴ - ۵ - ۶ - ۷ - ۴ - ۵ - ۶

۶- عزیزم الگو را ادامه بده.



۷- جدول شگفت انگیز زیر را با عدد مناسب کامل کن.

۲	۵	۱	۶	۳	۴
۳	۴	۶	۲	۵	۱
۱	۲	۵	۴	۶	۳
۴	۶	۳	۵	۱	۲
۵	۱	۴	۳	۲	۶
۶	۳	۲	۱	۴	۵