

پاسخ نمونه سؤالات فصل چهاردهم ریاضی - اول دبستان

معلم : پگاه برزافشان

۱ - عزیزم به تعداد شکل های سمت راست از انگشتانی که در عکس سمت چپ می بینی ببند. حالا عبارت تفریق را کامل کن.




۵

-

۴

=

۱




۴

-

۲

=

۲



۲

-

۲


=

۰

۲- برای هر عدد از یک رنگ استفاده کن و با رنگ کردن جواب جمع را پیدا کن.



$$۴ + ۳ + ۲ = ۹$$




$$۲ + ۱ + ۶ + ۱ = ۱۰$$


۳- دلبندم جدول شگفت انگیز زیر را کامل کن.

۲	۵	۱	۶	۳	۴
۳	۴	۶	۲	۵	۱
۱	۲	۵	۴	۶	۳
۴	۶	۳	۵	۱	۲
۵	۱	۴	۳	۲	۶
۶	۳	۲	۱	۴	۵

۴- به کمک شکل ها حاصل تفریق ها را پیدا کن.



$$7 - 5 = 2$$



$$10 - 3 = 7$$

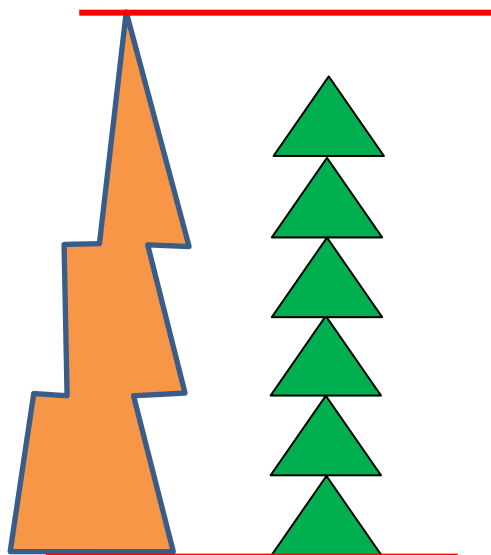


$$5 - 4 = 1$$

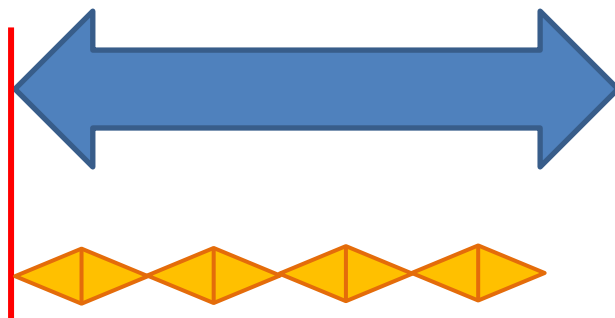


$$6 - 6 = 0$$

۵- اندازه ی هر شکل چند شکل کوچک است؟



اندازه شکل سمت چپ کمی بلند تر از ۶



اندازه ی فلش پیکان آبی کمی بلند تر



از ۴

۶- گل من، به کمک شابلون نیمه ی دیگر شکل را کامل کن.

