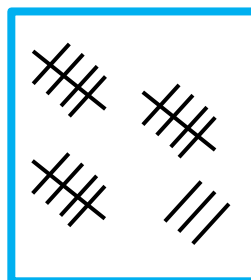



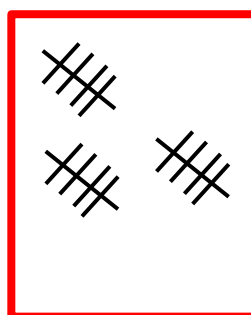
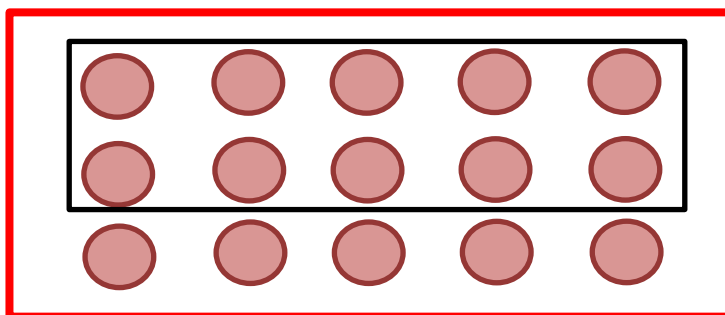
# پاسخ نمونه سؤالات فصل شانزدهم ریاضی - اول دبستان

معلم : پگاه برزافشان


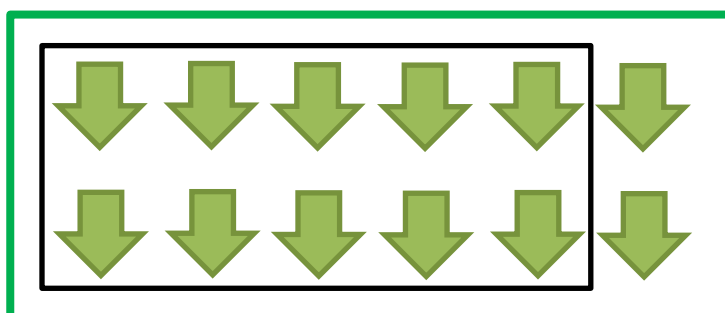
۱ - عزیزم شکل های هر دسته را با چوب خط بشمار، سپس دسته های ده تایی درست کن و جدول را کامل کن.



ده تایی	یکی
۱	۸



ده تایی	یکی
۱	۵



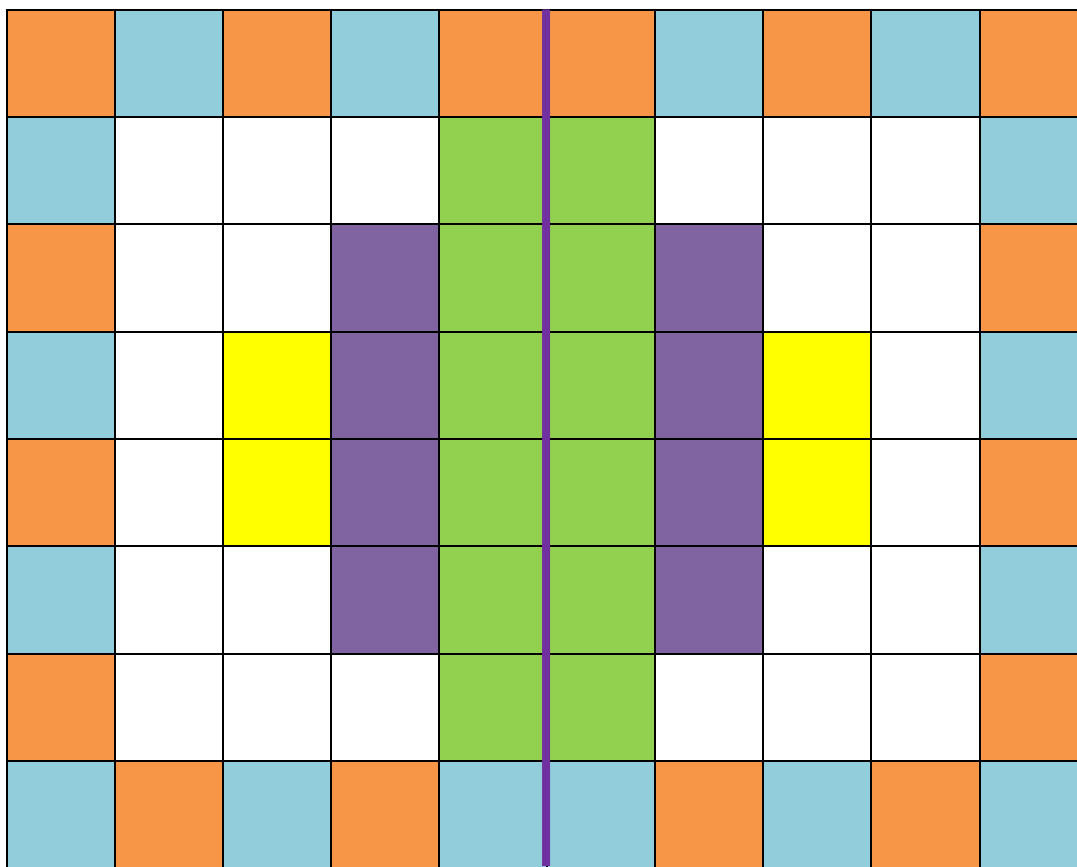
ده تایی	یکی
۱	۲

۲- گل من از ۰ تا ۱۹ را بنویس. حالا عدد های روی محور زیر را بنویس.



۰ - ۱ - ۲ - ۳ - ۴ - ۵ - ۶ - ۷ - ۸ - ۹ - ۱۰ - ۱۱ - ۱۲ - ۱۳ - ۱۴ -  
۱۵ - ۱۶ - ۱۷ - ۱۸ - ۱۹



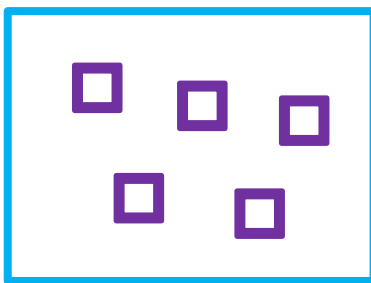
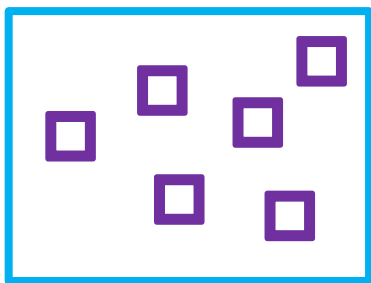
۳- نیمه ی سمت راست شکل را مانند نیمه ی سمت چپ کامل کن.





۴- حاصل جمع ها را پیدا کن و برای آن یک عبارت جمع بنویس.



$$\begin{array}{c} 8 \\ \dots \end{array} + \begin{array}{c} 7 \\ \dots \end{array} = \begin{array}{c} 15 \\ \dots \end{array}$$




$$\begin{array}{c} 6 \\ \dots \end{array} + \begin{array}{c} 5 \\ \dots \end{array} = \begin{array}{c} 11 \\ \dots \end{array}$$



$$\begin{array}{c} 5 \\ \dots \end{array} + \begin{array}{c} 7 \\ \dots \end{array} = \begin{array}{c} 12 \\ \dots \end{array}$$

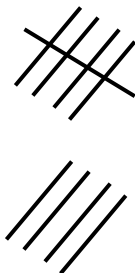
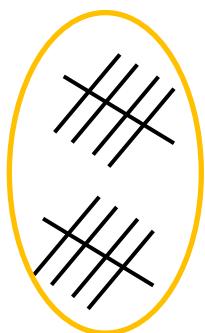
۵- گل من، هر شکل چه عددی را نشان می دهد؟ دور گزینه ی درست خط بکش.



۱۶

۱۷




۱۴



۱۸

۱۷

۱۹



۱۱


۱۶

۱۷

۶- دلبندم جدول شگفت انگیز زیر را کامل کن.

۹	۳	۷	۶	۵	۱	۸	۲	۴
۴	۶	۵	۸	۷	۲	۳	۹	۱
۲	۱	۸	۴	۳	۹	۷	۶	۵
۶	۹	۴	۳	۸	۷	۱	۵	۲
۸	۵	۳	۱	۲	۴	۹	۷	۶
۷	۲	۱	۵	۹	۶	۴	۳	۸
۳	۴	۶	۷	۱	۵	۲	۸	۹
۱	۸	۲	۹	۶	۳	۵	۴	۷
۵	۷	۹	۲	۴	۸	۶	۱	۳

۷- اندازه ی تصویر زیر چند شکل کوچک است؟



اندازه ی این شکل از ۱۲  کوتاه تر است.