

پاسخ نمونه سؤالات فصل نوزدهم ریاضی - اول دبستان

معلم : پگاه برزافشان

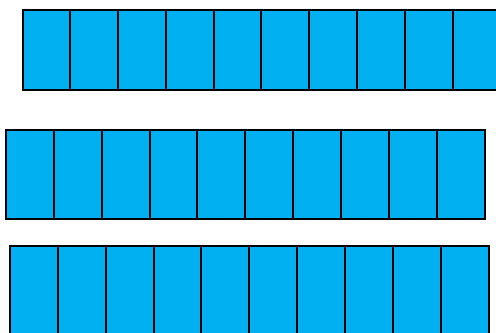
۱ - عزیزم، جدول ها را کامل کن و عددی که هر شکل نشان می دهد را

کنار آن بنویس.



ده تایی	یکی
۱...	۰..

۱۰۰



ده تایی	یکی
۳۰۰	۰..

۳۰۰

۲- گل من، جواب جمع و تفریق ها را بنویس.

$$۳۰ + ۳۰ = ۶۰$$

$$۹۰ - ۶۰ = ۳۰$$

$$۴۰ + ۱۰ = ۵۰$$

$$۷۰ - ۵۰ = ۲۰$$

$$۸۰ - ۱۰ = ۷۰$$

$$۶۰ + ۲۰ = ۸۰$$

۳- کارها را به ترتیبی که باید انجام شود، شماره گذاری کن.




۴- یک بوته ی گل سرخ ۹ غنچه داشت. ۳ تا از غنچه ها امروز باز شدند.

این بوته چند غنچه ی دیگر دارد؟

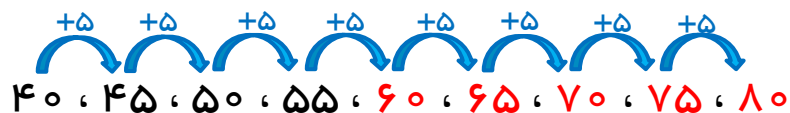
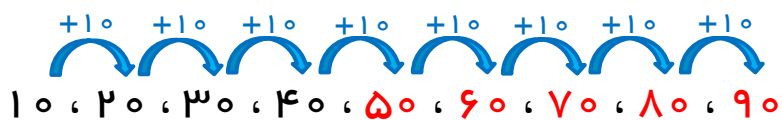
(برای حل مسئله ، دانش آموزان می توانند از هر یک از روش های رسم

شکل، محور، استفاده از انگشتان و ابزار و... استفاده کنند.)

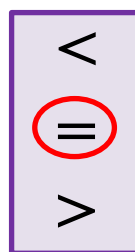
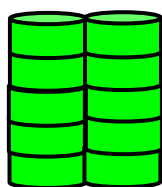
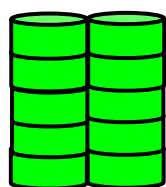



۶ غنچه

۵- الگوها را ادامه بده.

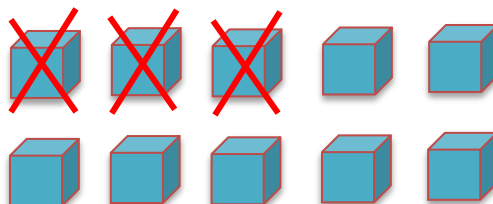
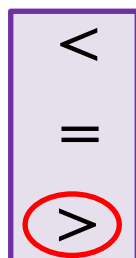



۶- جمع یا تفریق کن و علامت < یا > یا = را انتخاب کن.



$$۱۰ + ۲۰ = ۳۰$$

$$۱۰ + ۲۰ = ۳۰$$

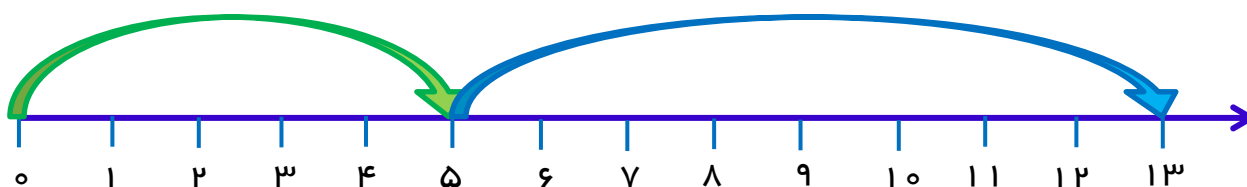


$$15 - 5 = 10$$

$$10 - 3 = 7$$

۷- پدر علی در طویله اش ۵ گاو و ۸ گوسفند نگهداری می کند. در این

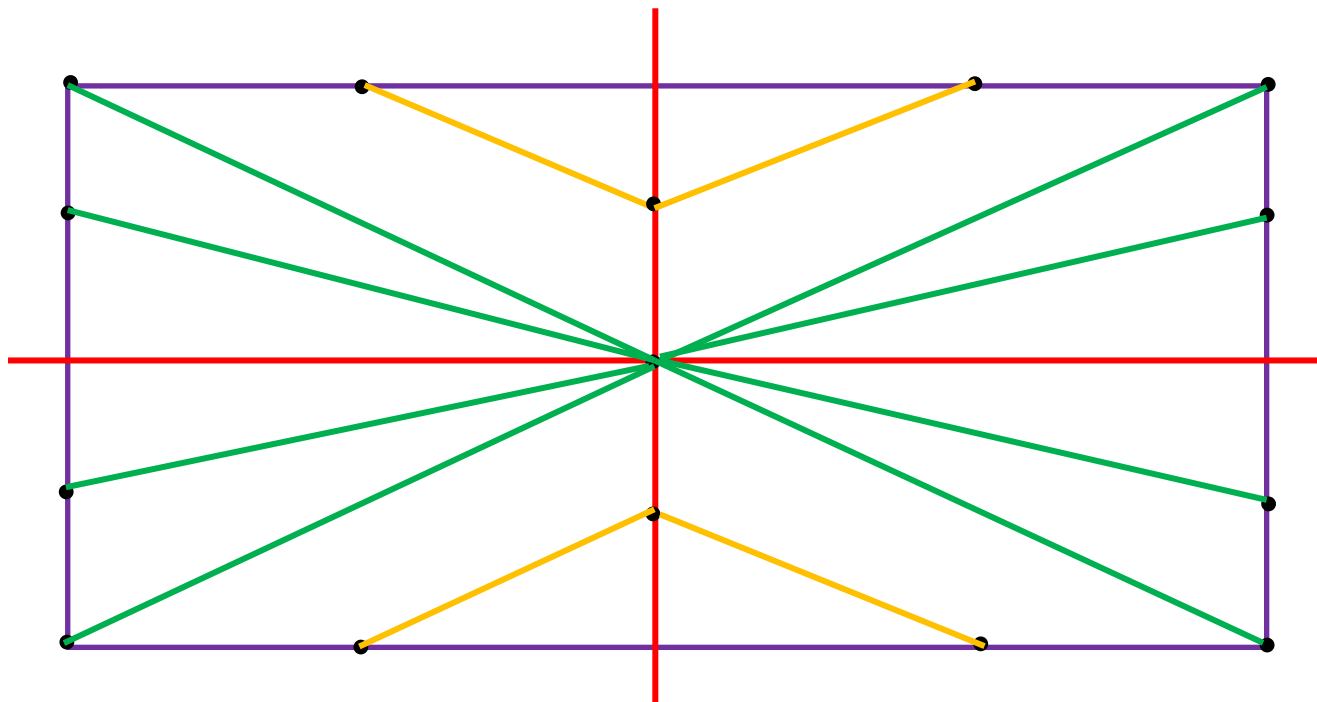
طویله چند گاو و گوسفند وجود دارد؟ ۱۳ گاو و گوسفند



۸- دلبندم، مربع شگفت انگیز زیر را کامل کن.

۶	۱	۹	۷	۴	۲	۳	۵	۸
۴	۵	۷	۸	۳	۱	۶	۹	۲
۸	۲	۳	۶	۹	۵	۱	۷	۴
۲	۳	۶	۴	۱	۹	۵	۸	۷
۵	۹	۱	۲	۷	۸	۴	۶	۳
۷	۸	۴	۳	۵	۶	۲	۱	۹
۹	۶	۲	۱	۸	۳	۷	۴	۵
۳	۴	۵	۹	۶	۷	۸	۲	۱
۱	۷	۸	۵	۲	۴	۹	۳	۶

۹- ابتدا نیمه ی سمت راست شکل را مانند نیمه ی سمت چپ کامل کن.
 حالا نیمه ی پایینی شکل را مانند نیمه ی بالا کامل کن تا ۴ قسمت شکل
 مثل هم شود .



۱۰- در یک حوض ۱۲ ماهی داریم. ۴ تا از ماهی ها سیاه و بقیه قرمز
 هستند. در این حوض چند ماهی قرمز قرار دارد؟ **۸ ماهی قرمز**

