
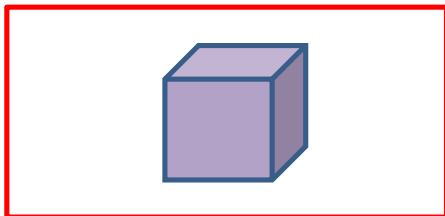

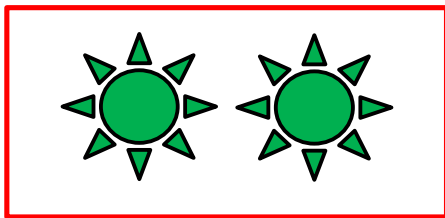
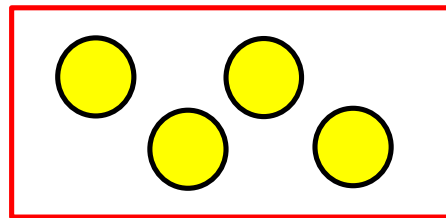


پاسخ نمونه سؤالات فصل دوم ریاضی – اول دبستان



معلم : پگاه برزافشان

۱ – عزیزم به تعداد شکل های سمت چپ از دایره های سمت راست رنگ


کن .



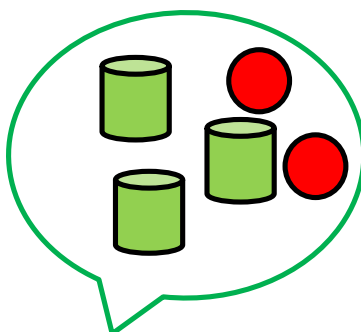
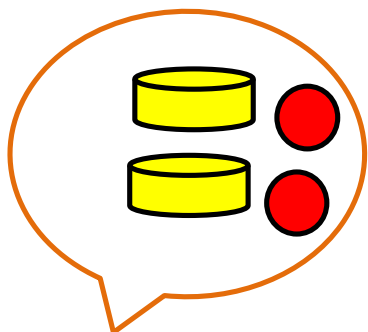
۲- زیبای من، چهار شکل بعد هر الگو را بکش.



۳- در جدول زیر خانه های سفید را با رنگ مناسب کامل کن.



۴- اگر به شکل های هر دسته دو شکل اضافه کنیم، تعداد شکل های هر دسته چند تا می شود؟



۵- فرزند هنرمندم، در صفحه شطرنجی زیر یک نقاشی زیبا بکش.

