

پاسخ نمونه سؤالات فصل بیست و یکم ریاضی – اول دبستان

معلم : پگاه برزافشان

۱ – عزیزم، جاهای خالی را پر کن.

ده تایی	یکی
۵	۳

۵۳

ده تایی	یکی
۱	۷

۱۷

۲۸ ، ۲۹ ، ۳۰ ، ۳۱ ، ۳۲ ، ۳۳ ، ۳۴ ، ۳۵ ، ۳۶ ، ۳۷ ، ۳۸ ، ۳۹ ، ۴۰ ، ۴۱

۵۰ ، ۵۱ ، ۵۲ ، ۵۳ ، ۵۴ ، ۵۵ ، ۵۶ ، ۵۷ ، ۵۸ ، ۵۹ ، ۶۰ ، ۶۱ ، ۶۲ ، ۶۳

۲- گل من، از عدد ۷۳ شروع کن و تا عدد ۹۵ بنویس.

۷۳ - ۷۴ - ۷۵ - ۷۶ - ۷۷ - ۷۸ - ۷۹ - ۸۰ - ۸۱ - ۸۲ - ۸۳ - ۸۴ -

۸۵ - ۸۶ - ۸۷ - ۸۸ - ۸۹ - ۹۰ - ۹۱ - ۹۲ - ۹۳ - ۹۴ - ۹۵

۳- عزیزم، با توجه به چوب خط ها جمع بنویس و حاصل را پیدا کن.



$$\dots ۶ \dots + \dots ۷ \dots + \dots ۵ \dots = \dots ۱۸ \dots$$



$$\dots ۶ \dots + \dots ۶ \dots + \dots ۵ \dots + \dots ۲ \dots = \dots ۱۹ \dots$$

۴- عدد هایی که با حروف نوشته شده است را به عدد بنویس.

چهار ...۴... هفت ...۷... نه ...۹...

ده ...۱۰... پنج ...۵... هشت ...۸...

۵- عزیزم با رسم چوب خط مسئله را حل کن.

زهرا برای روز معلّم ۳ شاخه گل مریم، ۵ شاخه گل نرگس و ۶ شاخه گل رز خرید. او چند شاخه گل برای معلّمش خریده است؟

۱.۴. شاخه گل خریده است.



۶- به کمک جدول زیر الگو را ۴ تا ۴ تا ادامه بده و خانه ها را رنگ کن.

۱	۲	۳	۴	۵	۶	۷	۸	۹	۱۰
۱۱	۱۲	۱۳	۱۴	۱۵	۱۶	۱۷	۱۸	۱۹	۲۰
۲۱	۲۲	۲۳	۲۴	۲۵	۲۶	۲۷	۲۸	۲۹	۳۰
۳۱	۳۲	۳۳	۳۴	۳۵	۳۶	۳۷	۳۸	۳۹	۴۰

۷- حاصل عبارت های زیر را به صورت ذهنی پیدا کن.

$$\underbrace{5 + 5}_{10} + \underbrace{5 + 5}_{10} + 10 + 10 + 10 = 50$$

$$\underbrace{2 + 3}_{5} + 5 + 20 + 10 = 40$$

$$10 + \underbrace{5 + 5}_{10} + 30 + 20 + 10 = 80$$

۸- گل من، جاهای خالی را با عدد مناسب کامل کن.

$$\begin{array}{ccccccc} +2 & +2 & +2 & +2 & +2 & +2 & +2 \\ \text{↪} & \text{↪} & \text{↪} & \text{↪} & \text{↪} & \text{↪} & \text{↪} \\ 34, & 36, & 38, & 40, & 42, & 44, & 46, & 48 \end{array}$$

$$\begin{array}{cccccccc} +5 & +5 & +5 & +5 & +5 & +5 & +5 & +5 \\ \text{↪} & \text{↪} & \text{↪} & \text{↪} & \text{↪} & \text{↪} & \text{↪} & \text{↪} \\ 35, & 40, & 45, & 50, & 55, & 60, & 65, & 70, & 75 \end{array}$$

$$\begin{array}{ccccccc} +10 & +10 & +10 & +10 & +10 & +10 & +10 \\ \text{↪} & \text{↪} & \text{↪} & \text{↪} & \text{↪} & \text{↪} & \text{↪} \\ 24, & 34, & 44, & 54, & 64, & 74, & 84, & 94 \end{array}$$

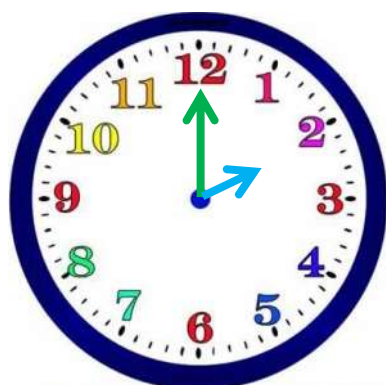
۹- اندازه ی فلش پیکان بین کدام دو عدد قرار دارد؟



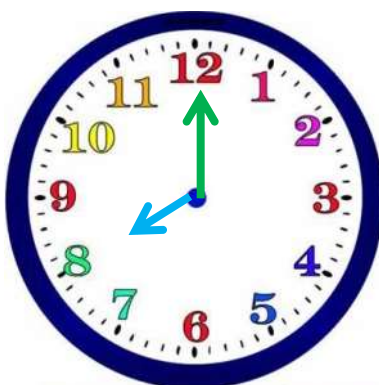
اندازه ی فلش پیکان بین ۹ تا ۱۰ است.

اندازه ی فلش پیکان بین ۷ تا ۸ است.

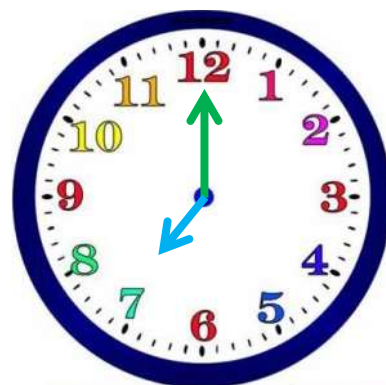
۱۰- زمانی که هر ساعت نشان می دهد را بنویس.



۲

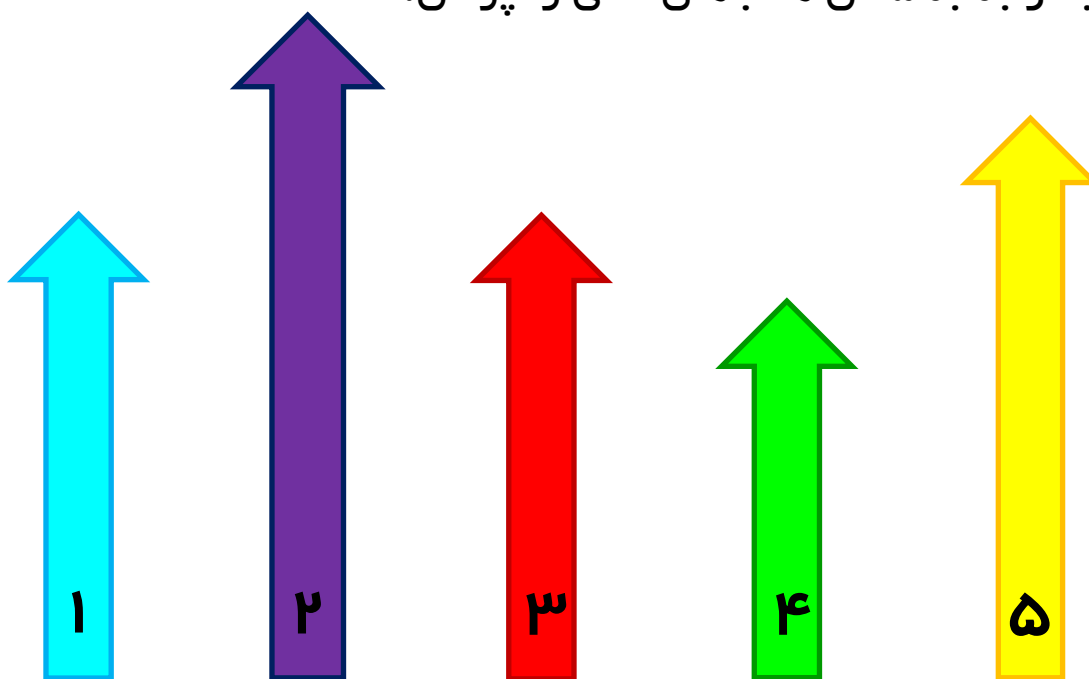


۸



۷

۱۱ - با توجه به شکل ها جاهای خالی را پر کن.



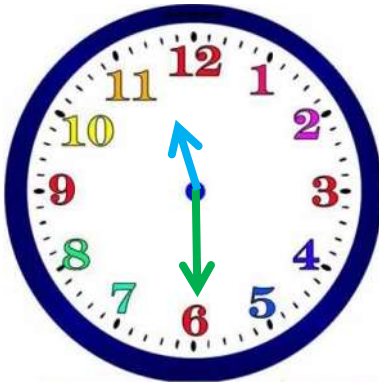
فلش شماره ی ۳ هم اندازه ی فلش شماره ی ۱ است.

فلش شماره ی ۵ کوتاه تر از فلش شماره ی ۲ است.

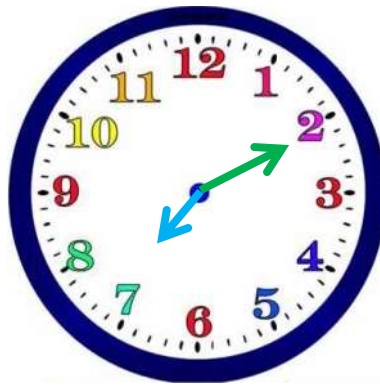
فلش شماره ی ۴ کوتاه ترین فلش است.

فلش شماره ی ۲ بلند ترین فلش است.

۱۲ - دلبندم جاهای خالی را پر کن.



زمان بین ساعت
۱۱ تا ۱۲ است.



زمان بین ساعت
۷ تا ۸ است.



زمان بین ساعت
۴ تا ۵ است.

۱۳ - عزیزم در هر قسمت کدام کار بیشتر طول می کشد؟



