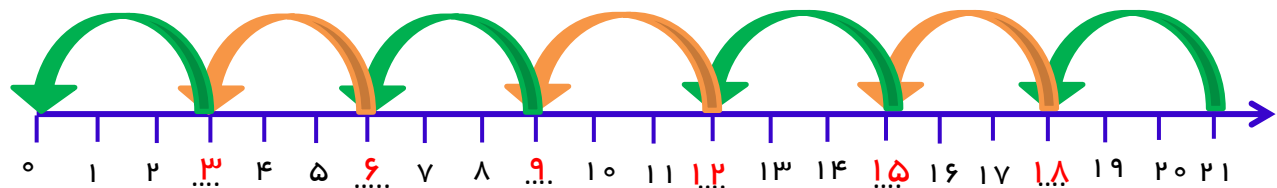
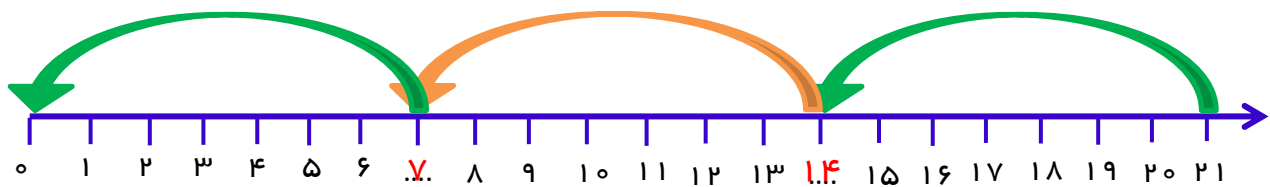


پاسخ نمونه سؤالات فصل بیست و چهارم ریاضی - اول دبستان


معلم : پگاه برزافشان

۱ - عزیزم، جاهای خالی را پر کن.



۲ - در تبلت مریم ۲۴ برنامه وجود داشت. او ۹ تا از برنامه هایی که به آن ها نیاز نداشت را حذف کرد و بعد از آن ۴ برنامه جدید نصب کرد. حالا چند برنامه در تبلت مریم وجود دارد؟

$$24 - 9 = 15$$



$$15 + 4 = 19$$

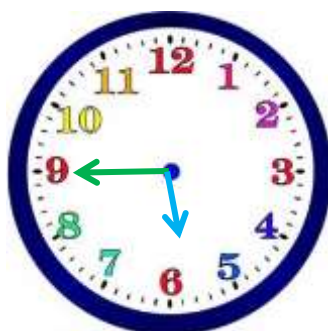


۱۹ برنامه در تبلت مریم وجود دارد.

۳- عزیزم ساعت چند است؟



ساعت ۴...



کمی مانده به ساعت ۶...



ساعت از ۷... گذشته

۴- جاهای خالی را پر کن.

۷۱	۹۴	۴۲	۶۸	۲۹	۷۰
هفتاد و یک	نود و چهار	چهل و دو	شصت و هشت	بیست و نه	هفتاد

۵- بستنی فروشی ۱۲ بستنی چوبی و ۷ بستنی قیفی دارد.

۱) او روی هم چند بستنی دارد؟ **۱۹ بستنی دارد.**  $۱۲ + ۷ = ۱۹$



۲) اگر از هر نوع بستنی ۴ تا بفروشد، روی هم چند بستنی فروخته است؟




**۸ بستنی فروخته است.**  $۴ + ۴ = ۸$



۳) چند بستنی برایش مانده است؟ **۱۱ بستنی مانده است.**  $۸ + ۳ = ۱۱$

۶- گل من به نقاشی زیر نگاه کن و بگو از هر شکل چند بار در نقاشی

استفاده شده است؟



$$۲ = \bigcirc$$

$$۴ = \triangle$$

$$۲ = \square$$

$$۳ = \square$$

۷- دلبندم نوشتن عدد ها را ادامه بده.

پنجاه و هفت - پنجاه و هشت - پنجاه و نه - شصت - شصت و یک

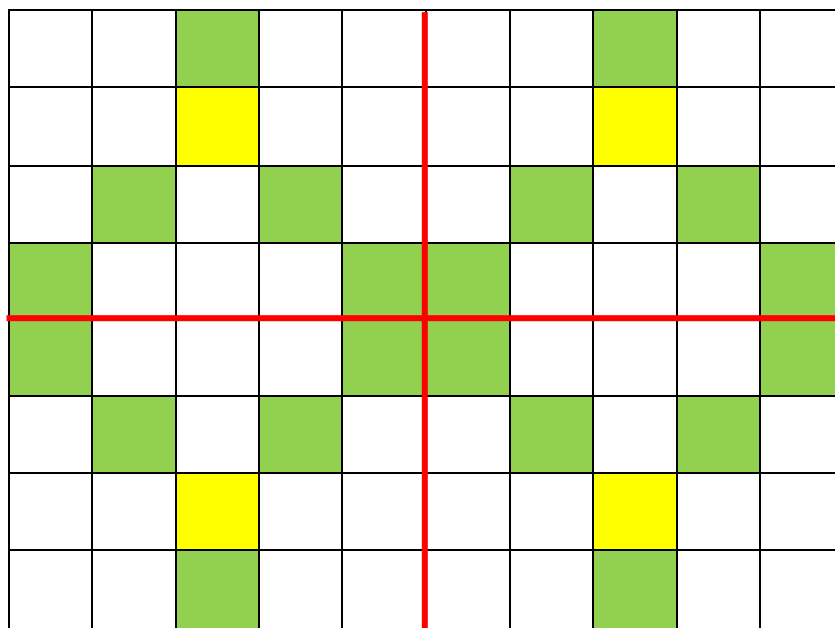
شصت و دو - شصت و سه - شصت و چهار

-----

هفتاد و سه - هفتاد و چهار - هفتاد و پنج - هفتاد و شش - هفتاد و هفت

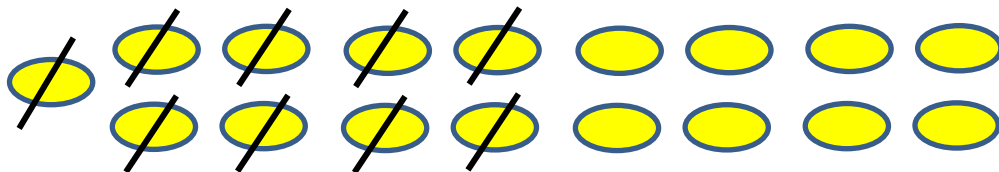
هفتاد و هشت - هفتاد و نه - هشتاد

۸- فرش زیر به ۴ قسمت مساوی تقسیم شده است. ۶ تا از مربع های یک قسمت را رنگ کن. ۳ قسمت دیگر را هم مانند همان قسمت کامل کن.

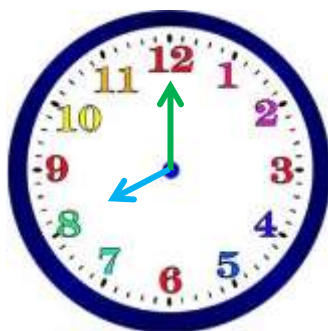


۹- نانوايي امروز ۱۷ نان را از تنور بيرون آورد. اما ۹ تا از نان ها سوخته بودند. چند نان برايش مي ماند؟ ۸ نان مانده است.

$$17 - 9 = 8$$



۱۰ - گل من، عقربه را طوری تنظیم کن که ساعت ۸ را نشان دهد.



۱۱ - گل من، در هر ردیف کدام سبک تر است؟

