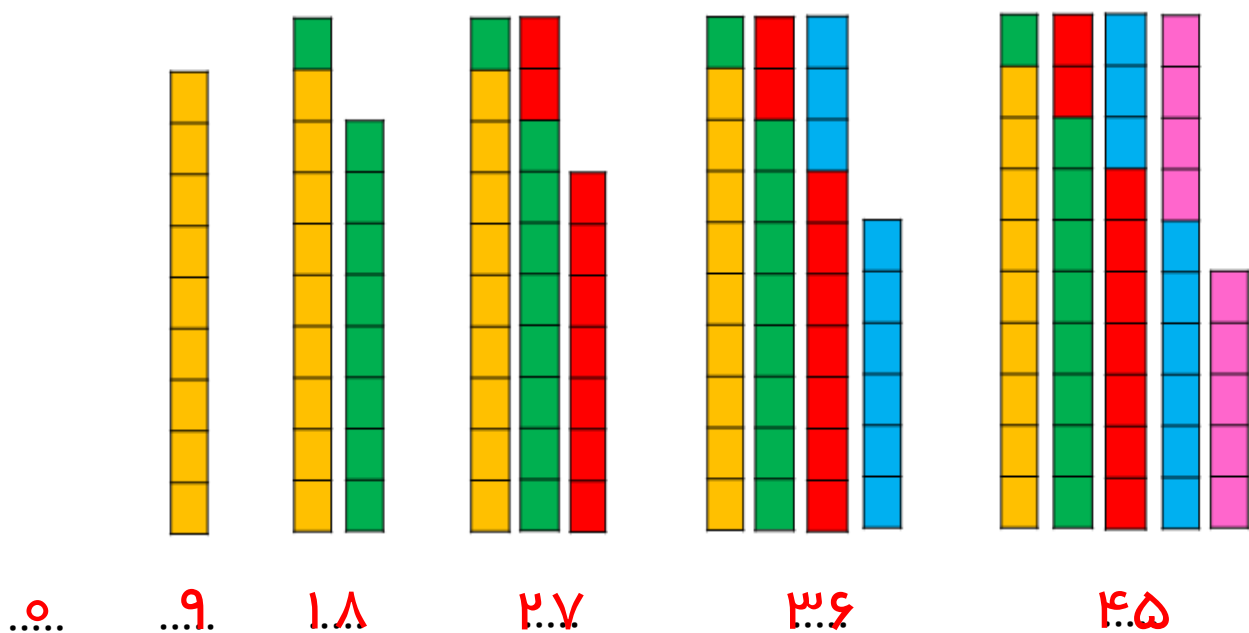


پاسخ نمونه سؤالات فصل بیست و پنجم ریاضی - اول دبستان

معلم : پگاه برزافشان

۱ - عزیزم، به کمک شکل ها جاهای خالی را پر کن. سپس بنویس شکل ها چند تا چند تا اضافه شده است.



شکل ها ۹ تا ۹ تا اضافه می شوند.

۲- علی آقا رفتگر محله، باید هر روز ۴۳ کوچه را جارو کند. او صبح تا ظهر

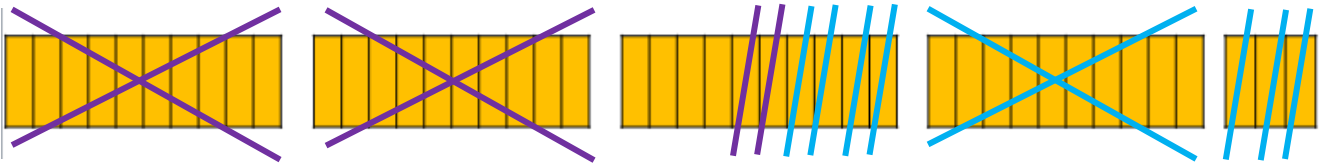
۱۷ کوچه و ظهر تا عصر ۱۲ کوچه را جارو زد. علی آقا تا شب چند کوچه ی

دیگر را باید جارو بزند؟

$$۴۳ - ۱۷ = ۲۶$$

$$۲۶ - ۲۲ = ۴$$

۴ کوچه ی دیگر هم باید جارو بزند.



۳- در هر قسمت عددهای مناسب بنویس.

از ۹۰ تا ۱۰۰ را یکی یکی بنویس.

۹۰ - ۹۱ - ۹۲ - ۹۳ - ۹۴ - ۹۵ - ۹۶ - ۹۷ - ۹۸ - ۹۹ - ۱۰۰

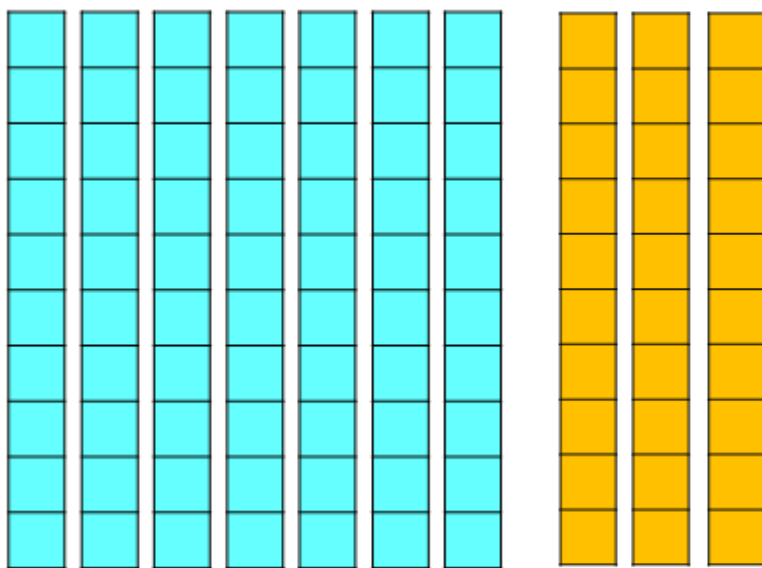
از ۲۰ تا ۶۰ را ۵ تا ۵ بنویس.

۲۰ - ۲۵ - ۳۰ - ۳۵ - ۴۰ - ۴۵ - ۵۰ - ۵۵ - ۶۰

از ۵۰ تا ۱۰۰ را ۱۰ تا ۱۰ تا بنویس.

۱۰۰ - ۹۰ - ۸۰ - ۷۰ - ۶۰ - ۵۰

۴- به شکل های زیر آنقدر دسته ی ده تایی اضافه کن تا شکل نشان دهنده ی عدد ۱۰۰ باشد.



به!... بسته ی ۱۰ تایی یک دسته ی صدتایی می گویند.

۵- کدام کار در مدت کمتری طول می کشد؟

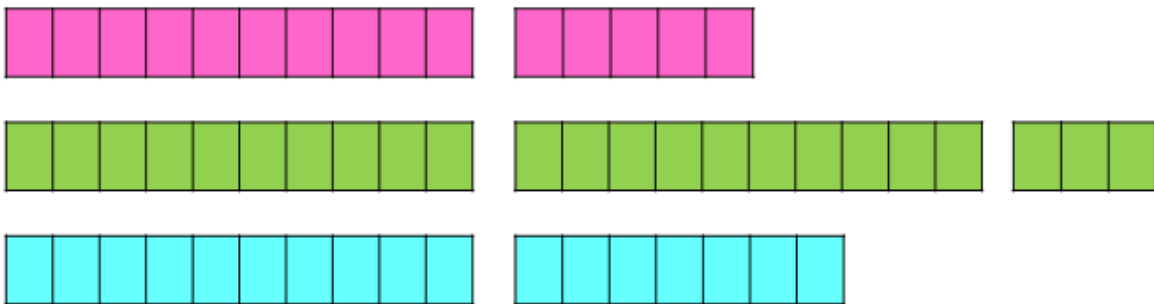


۶- در یک پارک ۱۵ درخت سرو، ۲۳ درخت کاج و ۱۷ درخت چنار قرار دارد. در این پارک چند درخت است؟

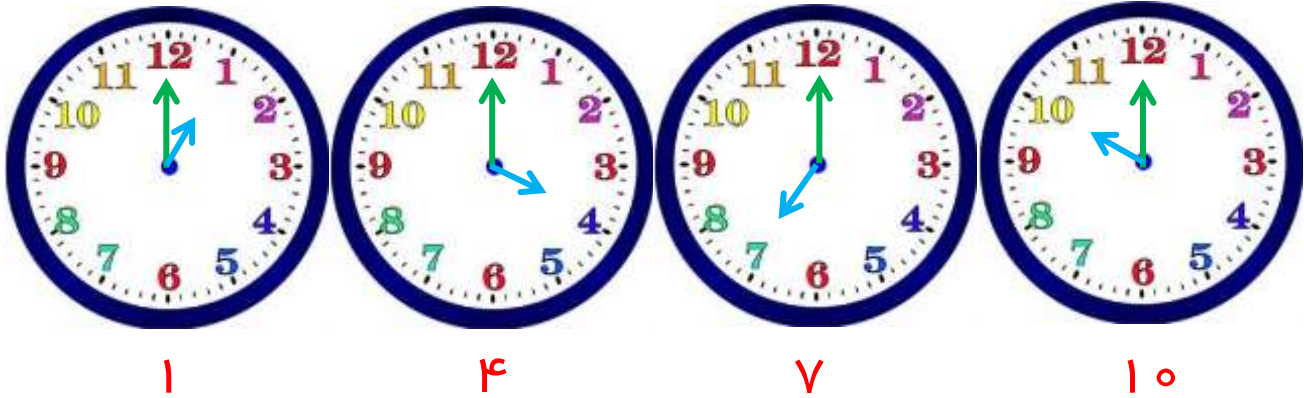
$$۱۵ + ۲۳ = ۳۸$$

$$۳۸ + ۱۷ = ۵۵$$

در این پارک ۵۵ درخت است.



۷- عقربه های ساعت ها را با توجه به الگوی آن بکش.



۸- اگر اطلاعات مسئله ها کافی است آن ها را حل کن.

۱) سوسن در یک روستای زیبا زندگی می کند. در مزرعه ی آن ها ۸ مرغ و

۱۷ جوجه وجود دارد. یکی از گاو ها، یک گوساله ی کوچک به دنیا آورد. حالا

در این مزرعه چند گاو است؟ **اطلاعات مسئله کافی نیست.**

۲) در کلاس اوّل ۲۵ صندلی قرار دارد. ۱۵ دانش آموز در کلاس بودند. ۷

نفر از کلاس خارج شدند. چند صندلی در کلاس مانده است؟ **۲۵ صندلی**)

اطلاعات مسئله اضافی است.

۳) دو تاکسی از ابتدای مسیر شروع به حرکت کردند. در یک تاکسی ۴

مسافر و در تاکسی دیگر ۳ مسافر قرار دارد. در طول مسیر از هر تاکسی

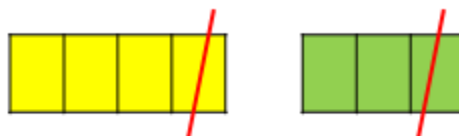
۱ مسافر پیاده شدند. در انتهای مسیر دو تاکسی روی هم چند مسافر

دارند؟

$$۴ - ۱ = ۳$$

$$۳ - ۱ = ۲$$

$$۳ + ۲ = ۵$$



تاکسی ها روی هم ۵ مسافر دارند.

۹ - دلبندم جدول زیر را کامل کن.

۴۰	۴۱	۴۲	۴۳	۴۴	۴۵	۴۶	۴۷	۴۸	۴۹
۵۰	۵۱	۵۲	۵۳	۵۴	۵۵	۵۶	۵۷	۵۸	۵۹
۶۰	۶۱	۶۲	۶۳	۶۴	۶۵	۶۶	۶۷	۶۸	۶۹

۱۰ - سمت دیگر شکل را طوری کامل کن که دو نیمه ی مثل هم داشته

باشیم.

