

پاسخ نمونه سؤالات فصل سوم ریاضی – اول دبستان

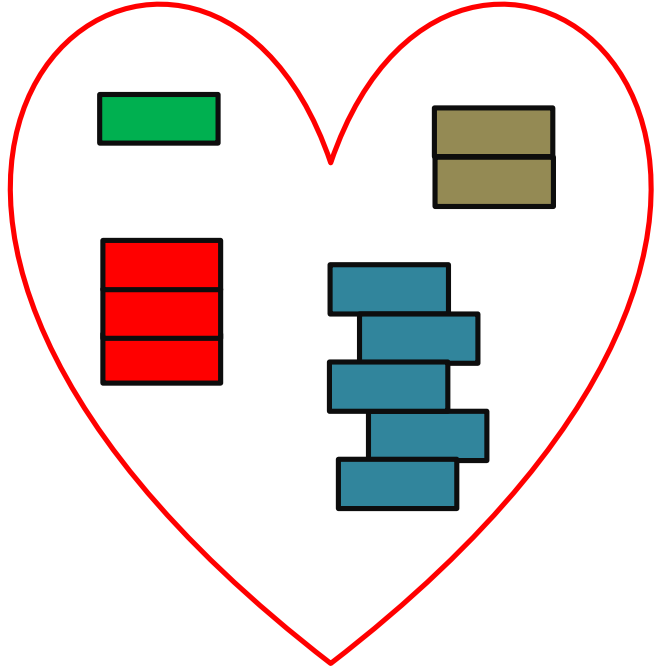

معلم : پگاه برزافشان

۱ – عزیزم هر دسته از شکل ها از چند چوب خط تشکیل شده است ؟
بشمار و بگو.

در این تمرین دانش آموزان باید چوب خط ها را با دقت شمارش کرده و
تعداد آن ها را بیان کنند. این تمرین کمک می کند تا مدل های مختلف
چیدمان چوب خط ها آشنا شوند.

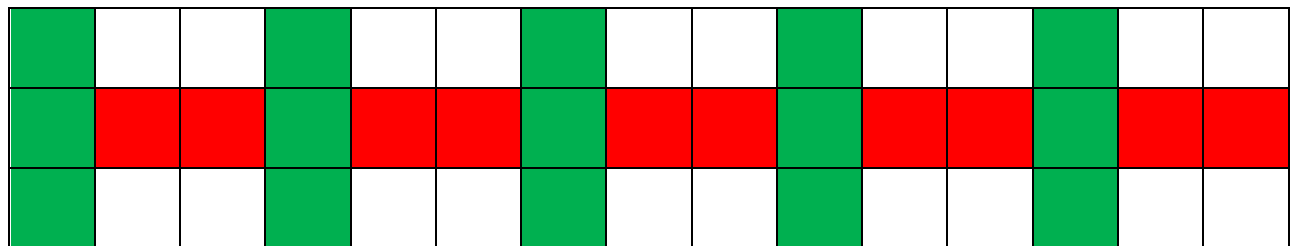
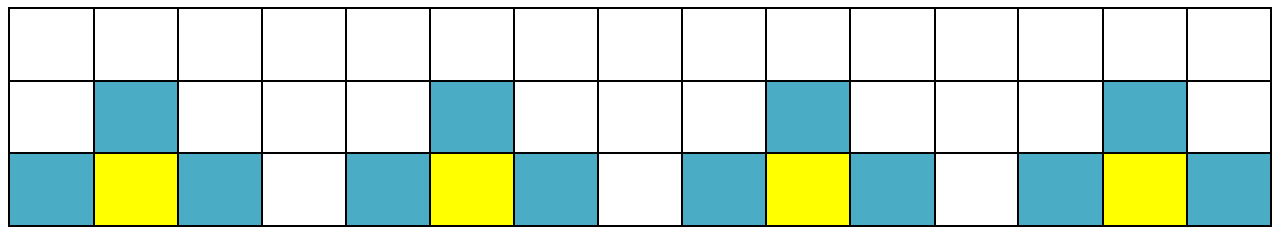
۲ – هر دسته از شکل های داخل قلب را رنگ کن و بگو از چند شکل
کوچک تشکیل شده است؟

در این تمرین دانش آموز هر دسته از شکل های داخل قلب ها را به
صورت دلخواه رنگ می کند سپس هر دسته از شکل ها را شمارش کرده
و تعداد آن را فقط و فقط بیان میکند.



















مثلا در قلب سمت چپ ۲ مکعب آبی وجود دارد. ۴ مکعب زرد دیده می شود و... نوشتن عدد توسط دانش آموز به هیچ عنوان لازم نیست.

۳- دلبندم، الگوها را ادامه بده.



۴- جدول زیر را با رنگ مناسب کامل کن.

۵- دلبندم شکل ها را با هم ترکیب و جدول را کامل کن.

