

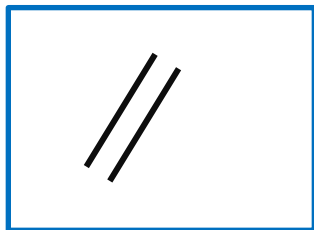





پاسخ نمونه سؤالات فصل پنجم ریاضی - اول دبستان

معلم : پگاه برزافشان





۱ - عزیزم در سمت چپ چند چوب خط می بینی؟ با یک دست نشان بده.

حالا به تعداد چوب خط های سمت راست انگشتان خود را ببند. چند تا

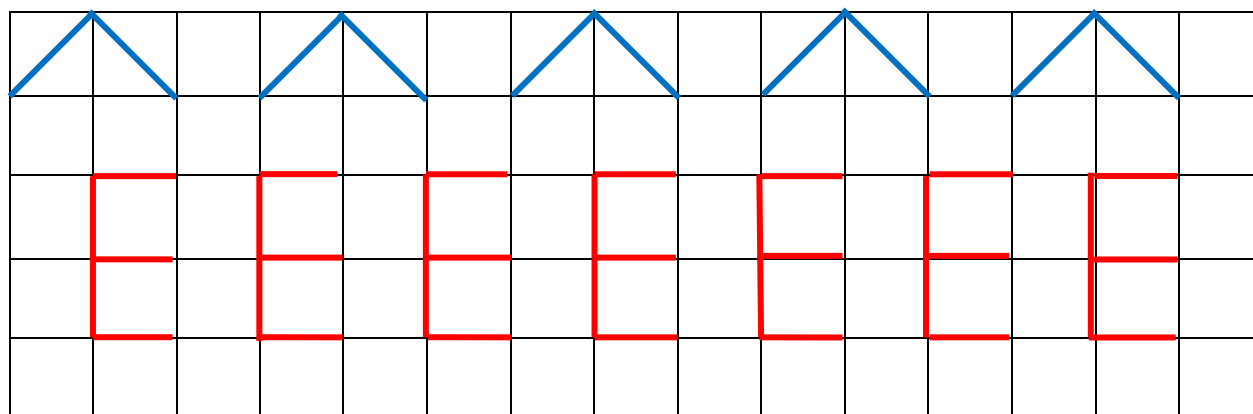
مانده است؟ به همان تعداد شکل بکش.



















۲- با کشیدن چوب خط بگو شکل های سمت چپ و راست باهم چند تا است؟



۳- فرزندانم الگوهای زیر را ادامه بده.



۴- دلبندم جدول زیر را کامل کن.

۵- عزیزم شکل های زیر از چند میله درست شده اند؟ به همان تعداد در سمت راست چوب خط بکش. حالا بگو هر شکل چند گوشه دارد؟ به همان تعداد در سمت چپ دایره بکش.

