
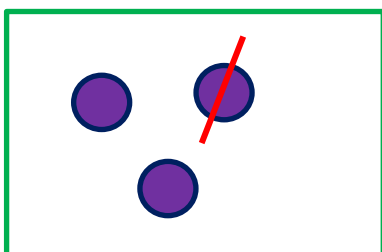







پاسخ نمونه سوالات فصل هفتم ریاضی - اول دبستان

معلم : پگاه برزافشان

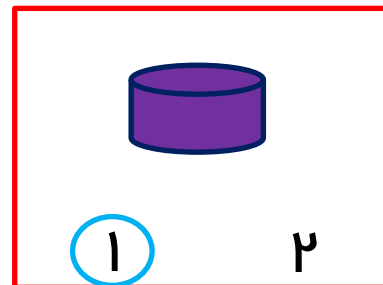
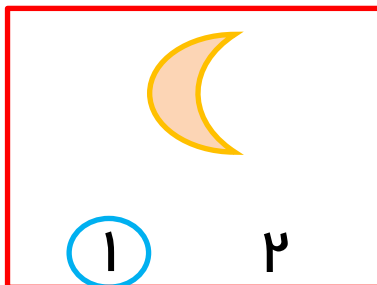
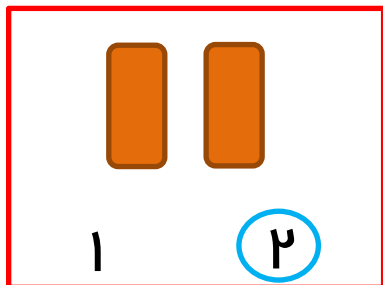
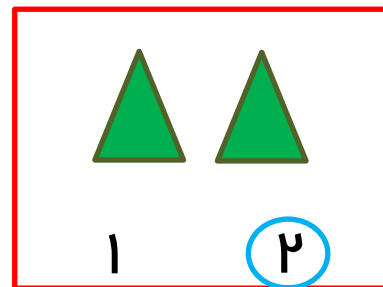
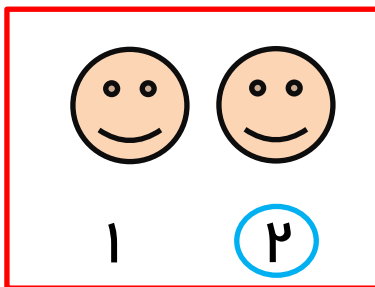

۱ - عزیزم به تعداد شکل های سمت راست از شکل های سمت چپ کم کن، سپس به تعدادی که باقی می ماند چوب خط بکش.



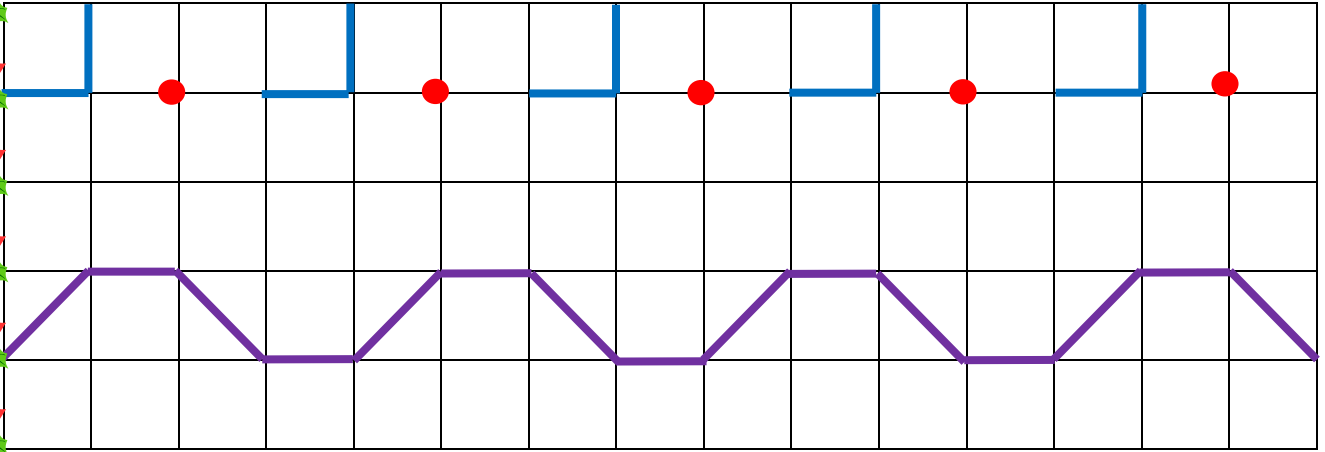
۲- خانه های سفید مربع شگفت انگیز زیر را با رنگ مناسب کامل کن .



۳- دلبندم دور عدد درست خط بکش.



۴- در هر ردیف الگوها را به همان ترتیب ادامه بده.



۵- هر شکل چه عددی را نشان می دهد؟



۱



۲



۱

۶- به کمک شابلون و با برگرداندن شابلون شکل های زیر را تکرار کن.

