


پاسخ نمونه سؤالات فصل هشتم ریاضی – اول دبستان

معلم : پگاه برزافشان

۱ – دلبندهم شکل های زیر چند گوشه دارند؟ زیر آن ها بنویس.



۴




۳



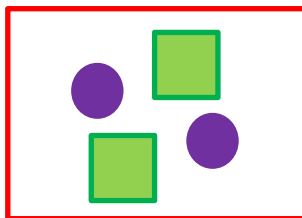
۴

۲ – به شکل های زیر آنقدر اضافه کن تا عددی که زیر هر کادر نوشته شده،


به دست آید.



۳

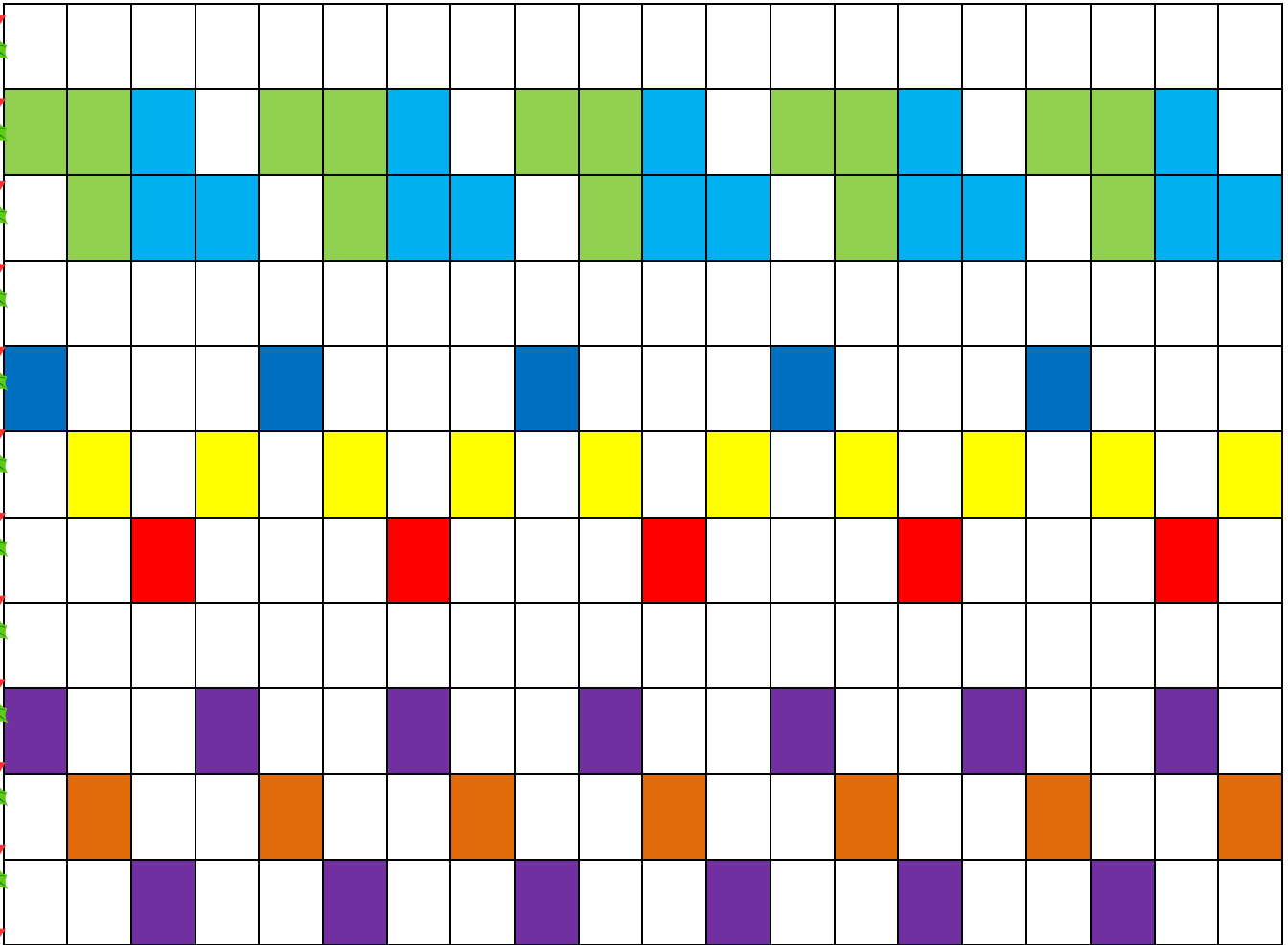


۴

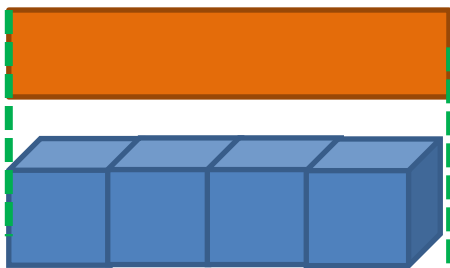


۲

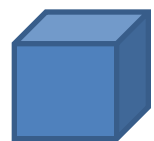
۳- عزیزم الگوها را ادامه بده.




۴- اندازه ی هر شکل چند چینه است؟ کنار آن بنویس.

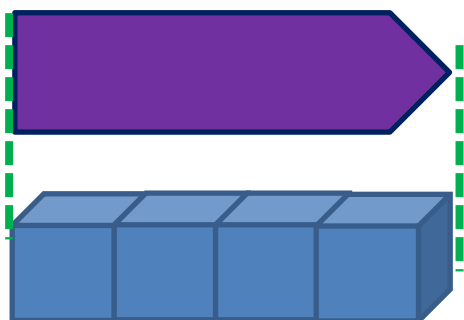
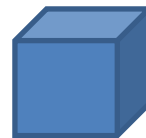


۴ ←

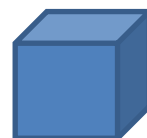




۳




۴



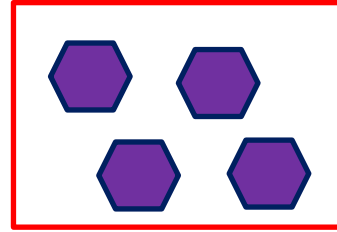
۵- گل من، مربع شگفت انگیز زیر را با عدد مناسب کامل کن.

۱	۲	۳	۴
۳	۴	۱	۲
۲	۳	۴	۱
۴	۱	۲	۳


۶- هر شکل چه عددی را نشان می دهد؟ دور آن خط بکش.




۴ ۳ ۱ ۲



۱ ۳ ۴ ۲



۴ ۳ ۲ ۱



۳ ۴ ۲ ۱

۷- عدد های مثل هم را پشت سر هم با خط کش به هم وصل کن تا شکل مورد نظر به دست آید.

