


نمونه سوالات فصل پنجم ریاضی – دوم دبستان  
معلم : پگاه برزافشان

۱- به شکل های زیر نگاه کنید و به سوالات پاسخ دهید.



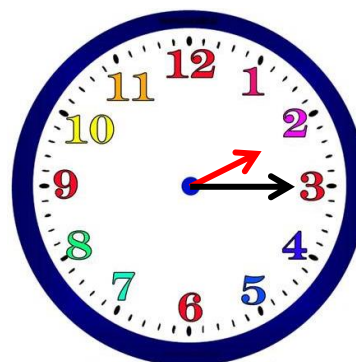
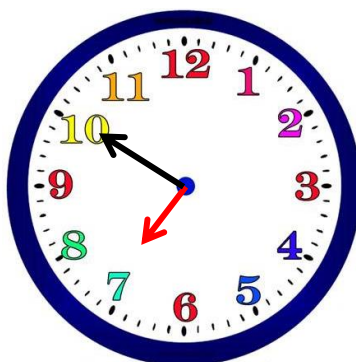
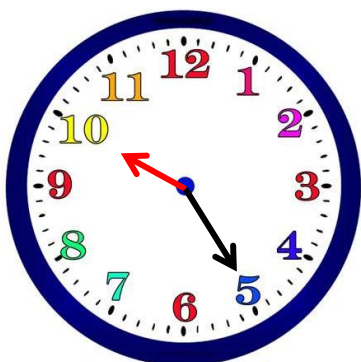
طول شانه از ..... گیره بیشتر و از ..... گیره کمتر است.



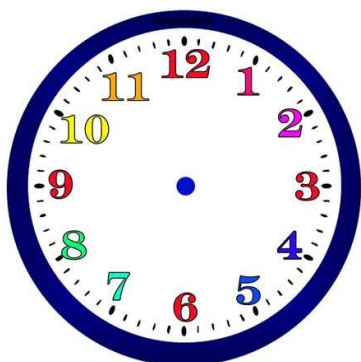
طول شاخه گل از ..... چینه بیشتر و از ..... چینه کمتر است.

۲- به نظر شما آیا برای اندازه گیری طول یک مداد میتوانیم از تراش، پاک کن و یا گیره استفاده کنیم؟ چرا؟

۳- ساعت چند است؟



۴- زهرا از مادرش پرسید: ساعت چند است؟ مادرش به او گفت: عقربه ی بزرگ روی ۲ و عقربه ی کوچک روی ۴ است. این زمان را روی ساعت زیر نمایش دهید و بگویید ساعت چند است.



۵- به کمک حدس و آزمایش جای خالی را پر کنید.

$$\bigcirc + ۱۵ = ۳۸$$

۶- فکر می کنید چرا برای اندازه گیری طول از یک واحد مشخص و یکسان باید استفاده کنیم؟

۷- خط های زیر را به کمک خط کش اندازه بگیرید.



۸- جاهای خالی را پر کنید.

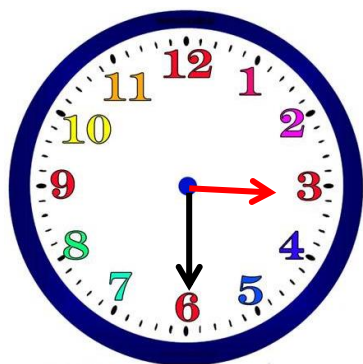
(الف) ۶۸ میلی متر یعنی ..... سانتی متر و ..... میلی متر.

(ب) ..... میلی متر یعنی ۳ سانتی متر و ۱ میلی متر.

(ج) ۶۰ میلی متر یعنی ..... سانتی متر.

۹- به کمک خط کش، خطی به طول ۷۸ میلی متر رسم کنید.

۱۰- ۲۵ دقیقه بعد از ساعت زیر چه ساعتی خواهد بود؟



موفق باشید