

نمونه سوالات فصل هشتم ریاضی – دوم دبستان
 معّم : پگاه برزافشان

۱ – یک نانوا نان هایی که در طول یک هفته پخته است را در جدول زیر یادداشت کرد. جدول را کامل کنید، سپس به سوالات پاسخ دهید.

روز	چوب خط	تعداد
شنبه	//// //	
یکشنبه	///	
دوشنبه	////	
سه شنبه	//// //	
چهارشنبه	////	
پنجشنبه	///	
جمعه	//// //// //	

این نانوا در طول یک هفته چند نان پخته است؟

در کدام روز نان بیشتری پخته شده است؟

این نانوا چهارشنبه چند نان پخته است؟

۲- الگوی زیر را ادامه دهید.

..... ، ، ، ، ۳۳۸ ، ۳۳۱

..... ، ، ، ، ۷۸۰ ، ۷۷۰ ، ۷۶۰


۳- جاهای خالی را کامل کنید.



..... دسته تایی می شود



..... دسته ۲ تایی می شود



..... دسته تایی می شود

۴- دور عدد های زوج خط بکشید.

۴۶۱

۲۱۸

۱۰۰

۹۳

۷۷

۵۶

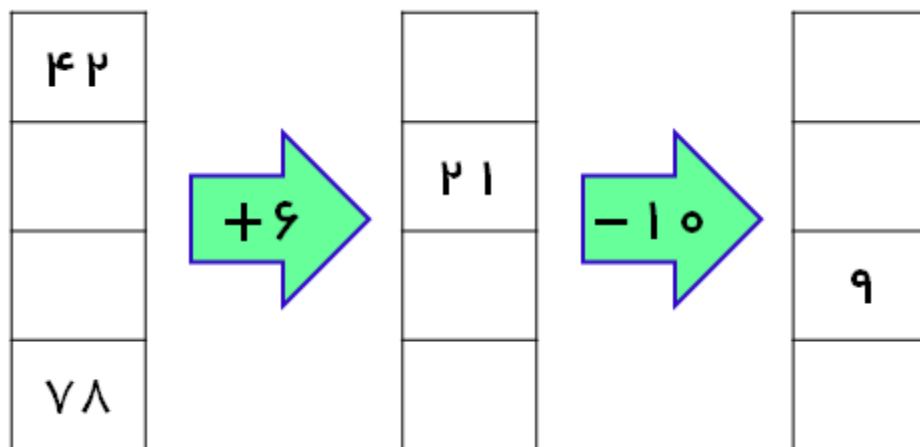
۵- عددی را پیدا کنید که اگر با ۱۷۵ جمع کنیم جواب ۲۰۳ شود.

۶- عدد های داخل جدول را به نزدیک ترین ده تایی تقریب بزنید.

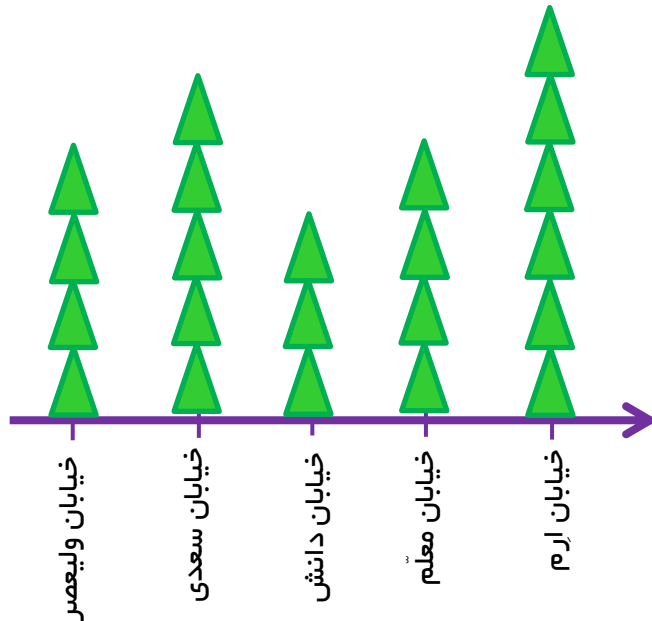
۳۴	۶۵	۱۷	۸۳	عدد
				مقدار تقریبی

۷- شیرین ۱ دفترچه و ۲ خودکار خرید و ۹۷۰ تومان به فروشنده داد. اگر قیمت هر خودکار ۳۴۰ تومان باشد، قیمت دفترچه را پیدا کنید.

۸- جاهای خالی را پر کنید.



۹- نمودار تصویری زیر تعداد درختان خیابان های یک شهر را نشان می دهد. هر ۱۰ درخت با ▲ نشان داده شده است. به کمک این نمودار جدول را کامل کنید و به سوالات پاسخ دهید.



تعداد درختان	نام خیابان
	خیابان ولیعصر
	خیابان سعدی
	خیابان دانش
	خیابان معلّم
	خیابان ارم

در خیابان های این شهر، چند درخت وجود دارد؟

تعداد درختان کدام خیابان از همه کمتر است؟

به نظر شما کدام خیابان سرسبز تر است؟ چرا؟

موفق باشید.