

پاسخ نمونه سوالات فصل هشتم ریاضی – دوّم دبستان
 معّم : پگاه برزافشان

۱ – یک نانوا نان هایی که در طول یک هفته پخته است را در جدول زیر یادداشت کرد. جدول را کامل کنید، سپس به سوالات پاسخ دهید.

روز	چوب خط	تعداد
شنبه	//// //	۹
یکشنبه	///	۳
دوشنبه	////	۵
سه شنبه	//// //	۸
چهارشنبه	////	۴
پنجشنبه	///	۳
جمعه	//// //// //	۱۲

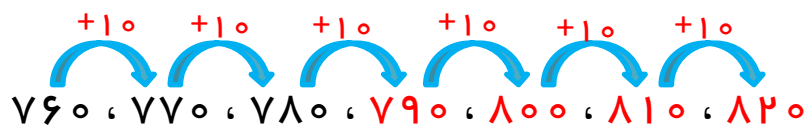
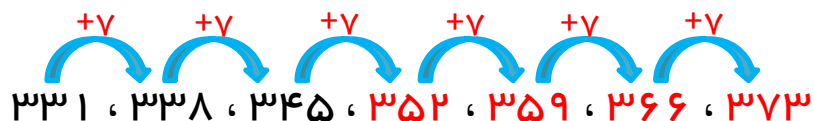
این نانوا در طول یک هفته چند نان پخته است؟ ۴۴ نان پخته است.

$$۹ + ۳ + ۵ + ۸ + ۴ + ۳ + ۱۲ = ۴۴$$

در کدام روز نان بیشتری پخته شده است؟ روز جمعه

این نانوا چهارشنبه چند نان پخته است؟ ۴ نان

۲- الگوی زیر را ادامه دهید.




۳- جاهای خالی را کامل کنید.



۴ دسته ۳ تایی می شود ۱۲



۴ دسته ۲ تایی می شود ۸



۳ دسته ۸ تایی می شود ۲۴

۴- دور عدد های زوج خط بکشید.

۴۶۱

۲۱۸

۱۰۰

۹۳

۷۷

۵۶

۵- عددی را پیدا کنید که اگر با ۱۷۵ جمع کنیم جواب ۲۰۳ شود.

$$\square + 175 = 203$$

با حدس و آزمایش می توانیم پاسخ سؤال را پیدا کنیم.

$$100 + 175 = 275 \quad \times$$

$$50 + 175 = 225 \quad \times$$

$$25 + 175 = 200 \quad \times$$

$$28 + 175 = 203 \quad \checkmark$$

۶- عدد های داخل جدول را به نزدیک ترین ده تایی تقریب بزنید.

۳۴	۶۵	۱۷	۸۳	عدد
۳۰	۷۰	۲۰	۸۰	مقدار تقریبی

۷- شیرین ۱ دفترچه و ۲ خودکار خرید و ۹۷۰ تومان به فروشنده داد.
اگر قیمت هر خودکار ۳۴۰ تومان باشد، قیمت دفترچه را پیدا کنید.

$$۲ \text{ خودکار} = ۳۴۰ + ۳۴۰ = ۶۸۰$$

۱ دفترچه ۲ خودکار

$$۶۸۰ + \square = ۹۷۰$$

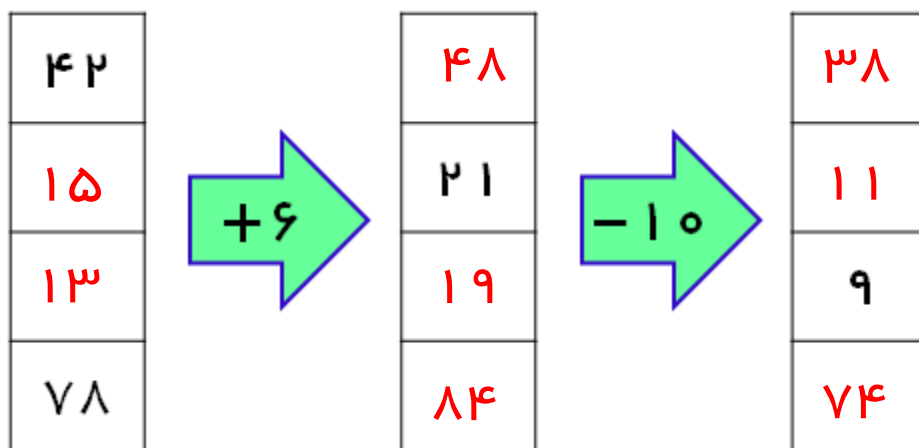
با حدس و آزمایش می توانیم پاسخ سؤال را پیدا کنیم.


$$۶۸۰ + ۳۰۰ = ۹۸۰$$

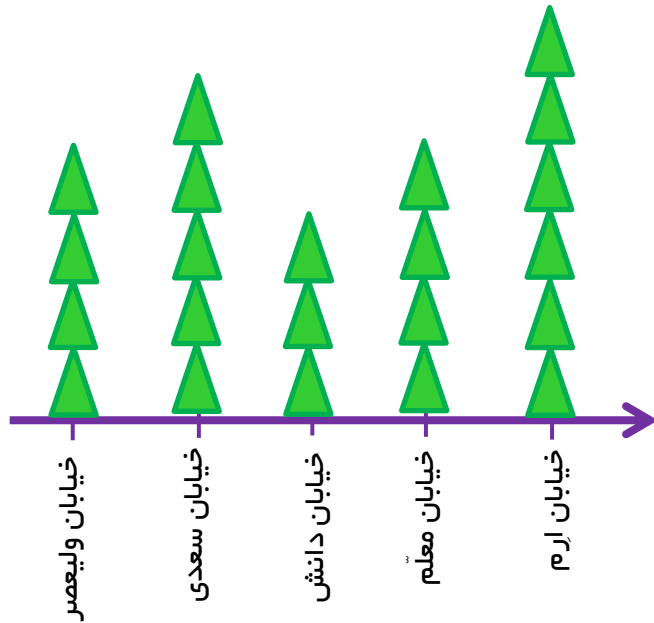
$$۶۸۰ + ۲۹۰ = ۹۷۰$$

قیمت دفترچه ۲۹۰ تومان است.

۸- جاهای خالی را پر کنید.



۹- نمودار تصویری زیر تعداد درختان خیابان های یک شهر را نشان می دهد. هر ۱۰ درخت با  نشان داده شده است. به کمک این نمودار جدول را کامل کنید و به سوالات پاسخ دهید.



تعداد درختان	نام خیابان
۴۰	خیابان ولیعصر
۵۰	خیابان سعدی
۳۰	خیابان دانش
۴۰	خیابان معلّم
۶۰	خیابان ارم

در خیابان های این شهر، چند درخت وجود دارد؟ ۲۲۰ درخت وجود دارد.

$$۴۰ + ۵۰ + ۳۰ + ۴۰ + ۶۰ = ۲۲۰$$

تعداد درختان کدام خیابان از همه کمتر است؟ خیابان دانش

به نظر شما کدام خیابان سرسبز تر است؟ چرا؟ خیابان ارم، چون تعداد درختان این خیابان از بقیه بیشتر است.

موفق باشید.