

نمونه سوالات فصل اول ریاضی – سوم دبستان

معلم : پگاه برزافشان

– الگوهای زیر را کامل کنید .

..... ، ، ، ۲۲ ، ۱۵ ، ۸

..... ، ، ، ۲۳ ، ۲۰ ، ۱۸ ، ۱۷

..... ، ، ، ۲۲ ، ۱۶ ، ۱۲ ، ۱۰

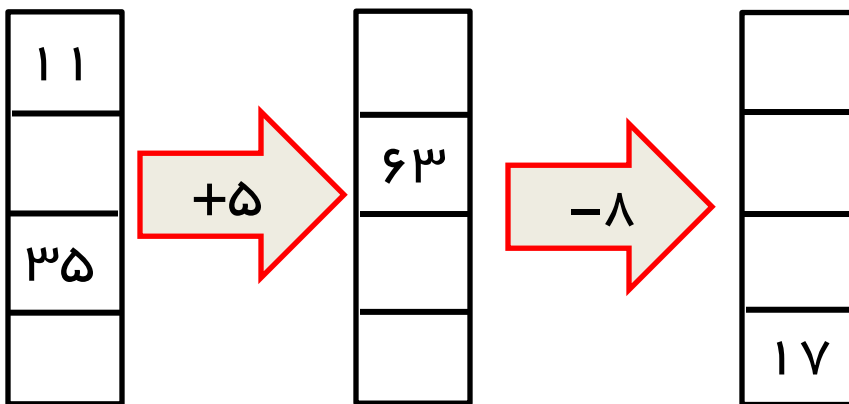
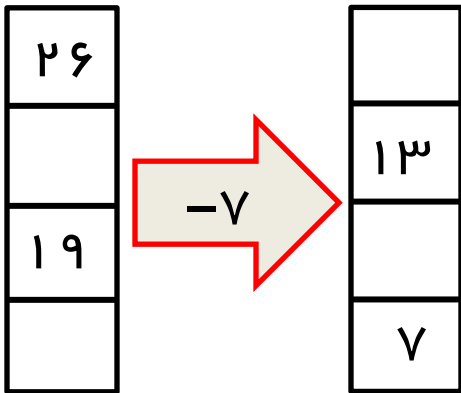
۲– گل فروشی هر شاخه گل را ۱۰ تومان می خرد و آن را با ۴ تومان سود می فروشد.

قیمت فروش هر شاخه گل چقدر است؟

به نظر شما ۳ شاخه گل برای او چقدر سود دارد؟



فروشنده باید چند شاخه گل بفروشد تا به سود ۳۶ تومان برسد؟

۳- جاهای خالی را پر کنید .

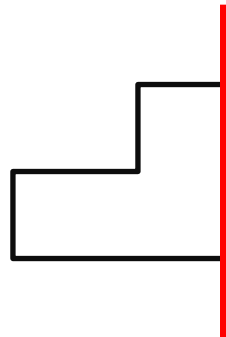
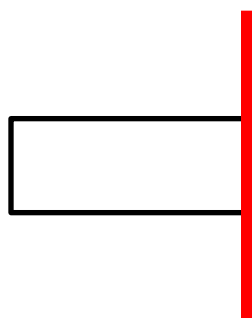


۴- اتوبوس شیراز- تهران هر روز ساعت ۱۸ از تهران حرکت می کند .
حرکت این اتوبوس ساعت چند بعد از ظهر است ؟

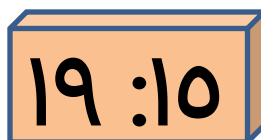
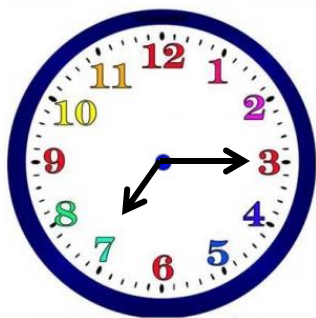
۵- برای شکل های زیر خط تقارن بکشید .



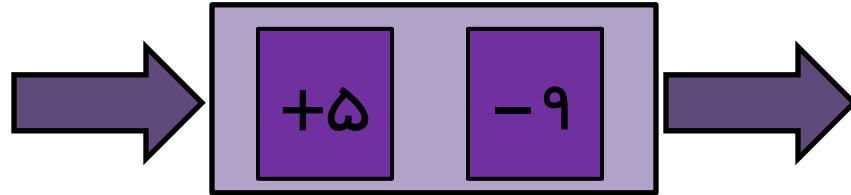
۶- نیمه ی دیگر شکل ها را طوری بکش که خط قرمز ، خط تقارن شکل باشد.



۷- هر دو ساعت یک زمان را نشان می دهد ، تفاوت این دو را توضیح دهید .



۸- کاری که ماشین مقابل انجام می دهد را توصیف کنید .



۹- جاهای خالی را پر کنید .

زمان			۰۲:۲۳	سبزه و نیم	
بعد از ظهر	۶	۰۲:۱۵			۵

۱۰- حاصل جمع های زیر را پیدا کنید .

$$۲ + ۷ + ۸ + ۵ + ۳ = \dots\dots$$

$$۲ + ۸ + ۷ + ۳ + ۶ = \dots\dots$$

۱۱ - زنگ مدرسه ای ساعت ۵ و ۳۰ دقیقه بعد از ظهر میخورد این یعنی
ساعت زنگ میخورد .

۱۲ - دایره خط تقارن دارد .