

نمونه سوالات فصل پنجم ریاضی – سوم دبستان

معلم : پگاه برزافشان

۱- به شکل زیر دقت کرده و سپس به سوالات پاسخ دهید.



(الف) کدام یک نیم خط است ؟

(ب) (و ز) خط است یا نیم خط یا پاره خط ؟ فلش هایی که در دو طرف آن دیده می شود به چه معناست ؟

(پ) طول کدام یک را می توان اندازه گیری کرد ؟ چرا ؟

۲- جاهای خالی را پر کنید.

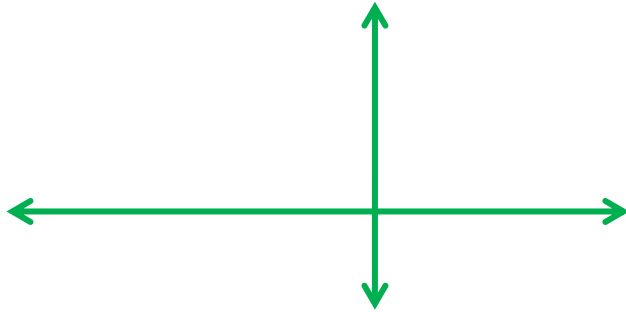
(الف) مستطیل قطر دارد .

(ب) بی شمار قطر دارد.

(ج) قطر ندارد.

(د) همه ی ضلعی ها دو قطر دارند.

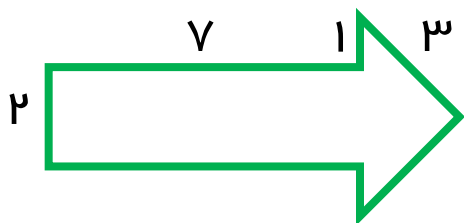
۳- در شکل زیر نیم خط و خط راست وجود دارد.

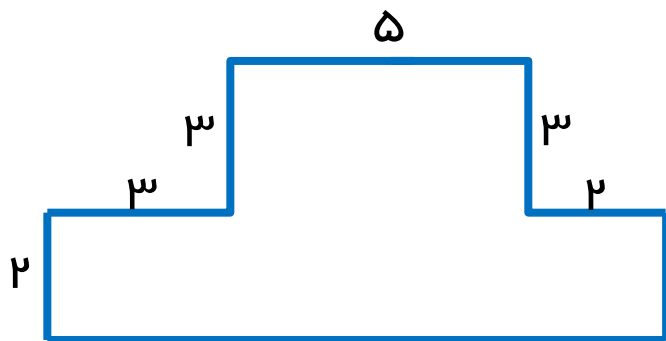


۴- دایره ای با قطری به طول ۸ سانتی متر داریم. طول شعاع این دایره چقدر است؟

۵- محیط یک مربع ۲۴ سانتی متر است. طول ضلع این مربع چقدر است؟

۶- محیط شکل های زیر را حساب کنید.





۷- یک میز مستطیل شکل به طول ۵ و عرض ۲ متر داریم. می خواهیم برای این میز یک رومیزی بدوزیم. مساحت این رومیزی را حساب کنید .

۸- مساحت یک مربع ۸۱ متر مربع است. طول ضلع این مربع چقدر است؟

۹- مساحت شکل های زیر را به دست آورید.

