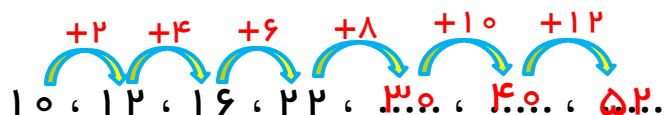
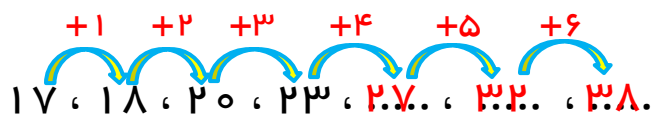
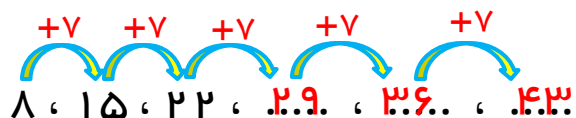


پاسخ سوالات فصل اول ریاضی - سوم دبستان

معلم : پگاه برزافشان

۱- الگوهای زیر را کامل کنید .



۲- گل فروشی هر شاخه گل را ۱۰ تومان می خرد و آن را با ۴ تومان سود می فروشد.

قیمت فروش هر شاخه گل چقدر است؟ ۱۴ تومان است. $10 + 4 = 14$

به نظر شما ۳ شاخه گل برای او چقدر سود دارد؟ یک شاخه گل برای فروشنده ۴ تومان سود دارد ، پس ۳ شاخه گل طبق الگوی زیر ۱۲ تومان سود خواهد داشت .

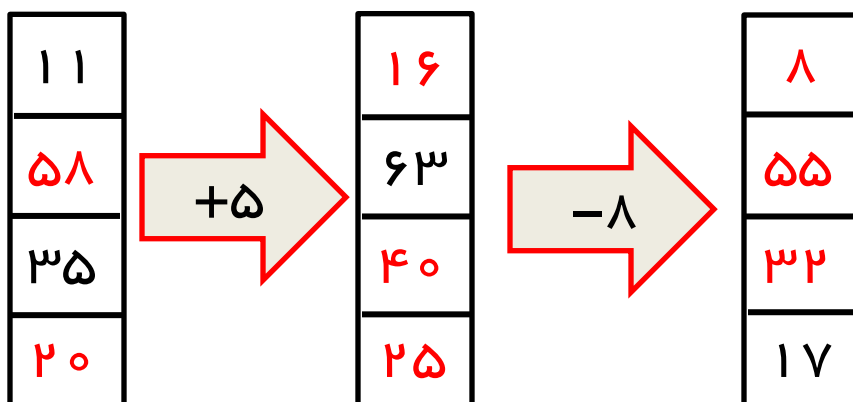
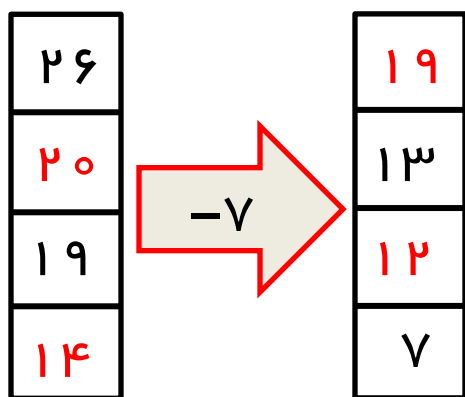
۴ ، ۸ ، ۱۲

فروشنده باید چند شاخه گل بفروشد تا به سود ۳۶ تومان برسد؟ با سود هر شاخه گل ۴ تومان، الگو را آنقدر ادامه می دهیم تا به سود ۳۶ تومان برسیم .



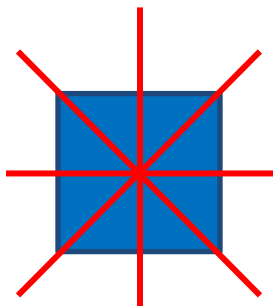
همانطور که در الگو پیداست فروشنده باید ۹ شاخه گل بفروشد تا به سود ۳۶ تومان برسد .

۴ ، ۸ ، ۱۲ ، ۱۶ ، ۲۰ ، ۲۴ ، ۲۸ ، ۳۲ ، ۳۶

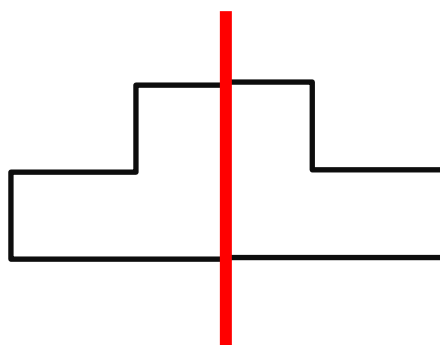
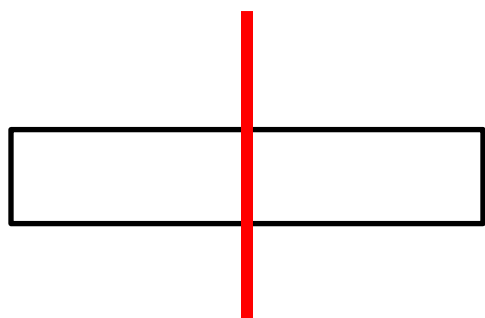
۳۱



۴- ساعت ۶ بعد از ظهر

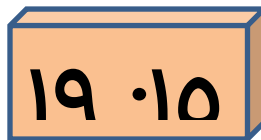
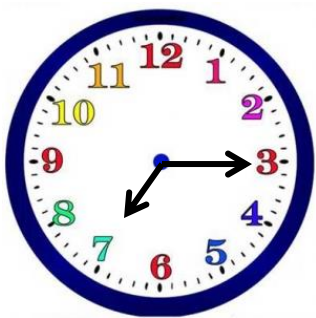


۵-

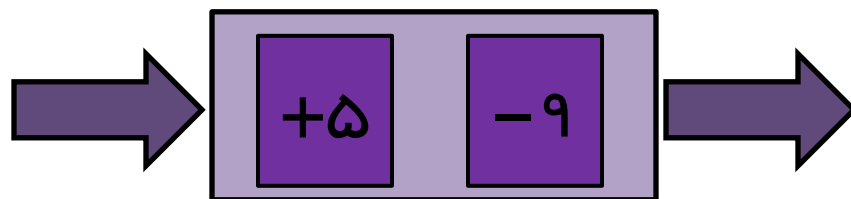


۶-

۷- ساعت عقربه ای نشان دهنده ی ساعت ۷ و ۱۵ دقیقه است که می تواند این ساعت مربوط به ۷ و ۱۵ دقیقه ی بعد از ظهر و یا قبل از ظهر باشد. اما ساعت دیجیتالی نشان دهنده ی ساعت ۷ و ۱۵ دقیقه بعد از ظهر است که ۱۹ و ۱۵ دقیقه گفته می شود .



۸- اعدادی که وارد ماشین می شوند ابتدا به اضافه ی ۵ می شوند و سپس جواب منهای ۹ می شود و در آخر حاصل به عنوان جواب پایانی از ماشین خارج می شود .



-۹

زمان	۱۸	۱۴:۱۵	۲۳:۲۰	سیزده و نیم	۱۷
بعد از ظهر	۶	۰۲:۱۵	۱۱:۲۰	۱:۳۰	۵

$۲ + ۷ + ۸ + ۵ + ۳ = ۲۵$

-۱۰

$۲ + ۸ + ۷ + ۳ + ۶ = ۲۶$

۱۱ - زنگ مدرسه ای ساعت ۵ و ۳۰ دقیقه بعد از ظهر میخورد این یعنی ساعت ۰۳:۰۷:۱۰. زنگ میخورد .

۱۲ - دایره بی نهایت. خط تقارن دارد .