

نمونه سوالات فصل اول ریاضی - چهارم دبستان

معلم : پگاه برزافشان

۱- الگوهای زیر را کامل کنید .

..... ، ..... ، ..... ، ۳۴۳ ، ۲۳۲ ، ۱۲۱

..... ، ..... ، ..... ، ۴۰ ، ۸۰ ، ۱۶۰

..... ، ..... ، ..... ، ۱۶ ، ۱۴ ، ۱۳

..... ، ..... ، ..... ، ۱۲۵ ، ۲۵ ، ۵ ، ۱

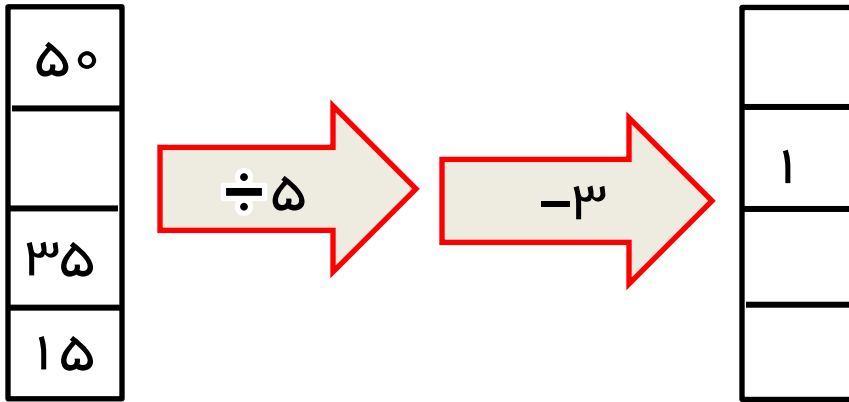
۲- عدد ۳۴۵۸۰۴۴۵ را در نظر بگیرید:

الف) این عدد را به حروف بنویسید .

ب) یکان میلیون آن چند است؟

ج) رقم ۸ در چه مرتبه ای قرار دارد؟

۳\_ جاهای خالی را پر کنید .



۴- بزرگترین و کوچکترین عدد ۷ رقمی بدون تکرار رقم ها را بنویسید و اختلاف آن ها را پیدا کنید .

۵- عدد سیصد و بیست و پنج میلیون و سی و دو هزار و سی را به رقم بنویسید .

۶- ۱۰۰ تا دسته ی ۱۰۰۰۰ تایمی می شود .....

۷- کار ماشین زیر را توضیح دهید و سپس جاهای خالی آن را پر کنید .



۸- مقایسه کنید .

$$9998857 \bigcirc 17000000$$

$$999645 \bigcirc 6523542$$

$$128465 \bigcirc 128456$$


$$4321245 \bigcirc 4321235$$

۹- با عدد های ۱ ، ۳ ، ۵ ، ۴ ، ۹ ، ۶ کوچکترین عدد شش رقمی زوج را بسازید .


۱۰ - با توجه به الگوی زیر به سوالات پاسخ دهید .




شکل ۱



شکل ۲



شکل ۳



شکل ۴

الف ( الگوی شکل را توضیح دهید .

ب ( شکل هفتم از چند دایره تشکیل شده است ؟

۱۱ - در سال ۱۳۷۰ جمعیت ایران ۶۳ ۱۶۳ ۵۵۸۳۷ نفر و جمعیت سوریه

۱۳۳۹۸۷۱۳ نفر بوده است .

الف ( جمعیت کدام کشور در آن سال بیشتر بوده است؟

ب ( مجموع جمعیت این دو کشور در سال ۱۳۷۰ چند نفر است؟